

# TELANGANA RESIDENTIAL EDUCATIONAL INSTITUTIONS RECRUITMENT BOARD TREI-RB

## Notations :

- 1.Options shown in green color and with ✓ icon are correct.
- 2.Options shown in red color and with ✗ icon are incorrect.

<b>Question Paper Name :</b>	General Studies General Abilities and Basic Proficiency in English 14th Aug 2023 Shift 3
<b>Subject Name :</b>	General Studies General Abilities and Basic Proficiency in English
<b>Creation Date :</b>	2023-08-14 19:39:45
<b>Duration :</b>	120
<b>Total Marks :</b>	100
<b>Display Marks:</b>	Yes
<b>Calculator :</b>	None
<b>Magnifying Glass Required? :</b>	No
<b>Ruler Required? :</b>	No
<b>Eraser Required? :</b>	No
<b>Scratch Pad Required? :</b>	No
<b>Rough Sketch/Notepad Required? :</b>	No
<b>Protractor Required? :</b>	No
<b>Show Watermark on Console? :</b>	Yes
<b>Highlighter :</b>	No
<b>Auto Save on Console?</b>	Yes
<b>Change Font Color :</b>	No
<b>Change Background Color :</b>	No
<b>Change Theme :</b>	No
<b>Help Button :</b>	No
<b>Show Reports :</b>	No
<b>Show Progress Bar :</b>	No

## General Studies General Abilities and Basic Proficiency in English

<b>Group Number :</b>	1
<b>Group Id :</b>	76469252
<b>Group Maximum Duration :</b>	0
<b>Group Minimum Duration :</b>	120
<b>Show Attended Group? :</b>	No
<b>Edit Attended Group? :</b>	No
<b>Break time :</b>	0
<b>Group Marks :</b>	100
<b>Is this Group for Examiner? :</b>	No
<b>Examiner permission :</b>	Cant View
<b>Show Progress Bar? :</b>	No

## General Studies

Section Id :	76469267
Section Number :	1
Section type :	Online
Mandatory or Optional :	Mandatory
Number of Questions :	78
Number of Questions to be attempted :	78
Section Marks :	80
Enable Mark as Answered Mark for Review and Clear Response :	Yes
Maximum Instruction Time :	0
Sub-Section Number :	1
Sub-Section Id :	764692100
Question Shuffling Allowed :	Yes
Is Section Default? :	null

Question Number : 1 Question Id : 7646925120 Question Type : MCQ Option Shuffling : Yes Is Question Mandatory : No Calculator : None Response Time : N.A Think Time : N.A Minimum Instruction Time : 0 Correct Marks : 1 Wrong Marks : 0.25

Which of the following pairs are correct with respect to 'UNESCO Asia-Pacific Awards for Cultural Heritage Conservation-2022'?

'యునెస్కో ఆసియా-పసిఫిక్ అవార్డ్స్ ఫర్ కల్చరల్ హెరిటేజ్ కన్సర్వేషన్-2022' కి సంబంధించి కింది వాటిలో ఏ జత(లు) సరైనది/వి?

- A) Award of Excellence: Osmania University Architecture, Hyderabad  
అవార్డ్ ఆఫ్ ఎక్సలెన్స్: ఉస్మానియా యూనివర్సిటీ ఆర్కిటెక్చర్, హైదరాబాద్
- B) Award of Distinction: Stepwells of Golkonda, Hyderabad  
అవార్డ్ ఆఫ్ డిస్టింక్షన్ : స్టెప్ వెల్స్ ఆఫ్ గోల్కొండ, హైదరాబాద్
- C) Award of Merit: Domakonda Fort, Telangana  
అవార్డ్ ఆఫ్ మెరిట్: దోమకొండ ఫోర్ట్, తెలంగాణ

Choose the correct pair(s):

సరైన జత(ల)ను ఎంచుకోండి:

Options :

A & B only

1. ✘ A & B మాత్రమే

B & C only

2. ✔ B & C మాత్రమే

3. ✘ A, B & C

C only

4. ✘ C మాత్రమే

Question Number : 1 Question Id : 7646925120 Question Type : MCQ Option Shuffling : Yes Is Question Mandatory : No Calculator : None Response Time : N.A Think Time : N.A Minimum Instruction Time : 0 Correct Marks : 1 Wrong Marks : 0.25

Which of the following pairs are correct with respect to 'UNESCO Asia-Pacific Awards for Cultural Heritage Conservation-2022'?

یونیسکو ایشیا-پسیفک ایوارڈز برائے ثقافتی ورثے کا تحفظ - 2022 کے حوالے سے ذیل کی کون سی جوڑیاں درست ہیں؟

A) Award of Excellence: Osmania University Architecture, Hyderabad

ایوارڈ آف ایکسیلینس: عثمانیہ یونیورسٹی آرکیٹیکچر، حیدرآباد

B) Award of Distinction: Stepwells of Golkonda, Hyderabad

ایوارڈ آف ڈسٹنکشن: اسٹیپ ویلس گولکنڈہ، حیدرآباد

C) Award of Merit: Domakonda Fort, Telangana

ایوارڈ آف میرٹ: ڈوماکنڈہ قلعہ، تلنگانہ

Select the correct pair(s):

درست جوڑ (جوڑیوں) کا انتخاب کیجئے:

Options :

A & B only

1. ✘ صرف A اور B

B & C only

2. ✔ صرف B اور C

A, B & C

3. ✘ A, B اور C

C only

4. ✘ صرف C

Question Number : 2 Question Id : 7646925121 Question Type : MCQ Option Shuffling : Yes Is Question Mandatory : No Calculator : None Response Time : N.A Think Time : N.A Minimum Instruction Time : 0 Correct Marks : 1 Wrong Marks : 0.25

Which of the following is/are correct in respect to B-Hub of Telangana?

తెలంగాణ రాష్ట్ర బి-హబ్ కి సంబంధించి కింది వాటిలో ఏది/ఏవి సరైనది/వి?

A) Biotechnology Hub is established in Hyderabad in September 2022.

సెప్టెంబరు 2022లో బయోటెక్నాలజీ హబ్ హైదరాబాద్ లో స్థాపించబడింది.

B) B-Hub is a joint project with the Government of Telangana, Telangana State Industrial Infrastructure Corporation and Department of Biotechnology.

బి-హబ్ అనేది తెలంగాణ ప్రభుత్వం, తెలంగాణ రాష్ట్ర పారిశ్రామిక మౌళిక సదుపాయాల సంస్థ (TSIIC), డిపార్ట్ మెంట్ ఆఫ్ బయోటెక్నాలజీల ఉమ్మడి ప్రాజెక్ట్.

Choose the correct answer:

సరైన సమాధానాన్ని ఎంచుకోండి:

Options :

A only

1. ✘ A మాత్రమే

B only

2. ✔ B మాత్రమే

Both A & B

3. ✘ A & B రెండూ

Neither A nor B

4. ✘ A & B రెండూ కావు

Question Number : 2 Question Id : 7646925121 Question Type : MCQ Option Shuffling : Yes Is Question Mandatory : No Calculator : None Response Time : N.A Think Time : N.A Minimum Instruction Time : 0 Correct Marks : 1 Wrong Marks : 0.25

Which of the following is/are correct in respect to B-Hub of Telangana?

تلنگانہ کے بی۔ہب کے حوالے سے مندرجہ ذیل میں سے کون سے بیان درست ہے/ہیں؟

A) Biotechnology Hub is established in Hyderabad in September 2022.

بائیوٹیکنالوجی ہب ستمبر 2022 میں حیدرآباد میں قائم کیا گیا۔

B) B-Hub is a joint project with the Government of Telangana, Telangana State Industrial Infrastructure Corporation and Department of Biotechnology.

بی۔ہب حکومت تلنگانہ، تلنگانہ اسٹیٹ انڈسٹریل انفراسٹرکچر کارپوریشن اور محکمہ بائیوٹیکنالوجی کے ساتھ ایک مشترکہ پراجیکٹ ہے۔

Select the correct answer:

درست جواب منتخب کیجئے۔

Options :

A only

1. ✘ A صرف

B only

2. ✔ B صرف

Both A & B

3. ✘ A اور B دونوں

Neither A nor B

4. ✘ نہ A اور نہ B

Question Number : 3 Question Id : 7646925122 Question Type : MCQ Option Shuffling : Yes Is Question Mandatory : No Calculator : None Response Time : N.A Think Time : N.A Minimum Instruction Time : 0 Correct Marks : 1 Wrong Marks : 0.25

Which of the following awareness measures has been initiated by the Election Commission of India in collaboration with All India Radio (AIR) in October 2022?

అక్టోబరు 2022లో ఆల్ ఇండియా రేడియో (AIR) సహకారంతో భారతదేశ ఎన్నికల సంఘం కింది వాటిలో ఏ అవగాహన చర్యను ప్రారంభించింది?

Options :



Akashavani Chunao Talmel

1. ✘ ఆకాశవాణి చునావో తాల్ మేల్

Matdata junction

2. ✔ మత్దాతా జంక్షన్

Matdhan Samman

3. ✘ మత్దాన్ సమ్మాన్

Systematic Voters Education

4. ✘ క్రమబద్ధమైన ఓటర్ల విద్య

Question Number : 3 Question Id : 7646925122 Question Type : MCQ Option Shuffling : Yes Is Question Mandatory : No Calculator : None Response Time : N.A Think Time : N.A Minimum Instruction Time : 0 Correct Marks : 1 Wrong Marks : 0.25

Which of the following awareness measures has been initiated by the Election

Commission of India in collaboration with All India Radio (AIR) in October 2022?

ఎలక్షన్ కమిషన్ ఆఫ్ ఇండియా نے آل انڈیا ریڈیو (آئی آر) کے تعاون سے اکتوبر 2022 میں مندرجہ ذیل میں سے کون سی آگاہی اقدامات کا آغاز کیا؟

Options :

Akashavani Chunao Talmel

1. ✘ آکاش وانی چناواتال میل

Matdata junction

2. ✔ مت داتا جکشن

Matdhan Samman

3. ✘ مت دان سامان

Systematic Voters Education

4. ✘ رائے دہندگان کی منظم تعلیم

Question Number : 4 Question Id : 7646925123 Question Type : MCQ Option Shuffling : Yes Is Question Mandatory : No Calculator : None Response Time : N.A Think Time : N.A Minimum Instruction Time : 0 Correct Marks : 1 Wrong Marks : 0.25

Which of the following cities were awarded first three cleanest cities in the category of 'more than 1 lakh population' under the Swachh Survekshan 2022 as part of Swachh Bharat Mission – Urban 2.0?

స్వచ్ఛ్ భారత్ మిషన్ - అర్బన్ 2.0లో భాగంగా స్వచ్ఛ సర్వేక్షన్ 2022 కింద '1 లక్ష కంటే ఎక్కువ జనాభా' విభాగంలో మొదటి మూడు పరిశుభ్రమైన నగరాల అవార్డును అందుకున్నవి ఏవి?

- A) Bengaluru  
బెంగళూరు
- B) Chandigarh  
చండీఘడ్
- C) Indore  
ఇండోర్
- D) Navi Mumbai  
నవీ ముంబాయి
- E) Surat  
సూరత్

Choose the correct answer:

సరైన సమాధానాన్ని ఎంచుకోండి:

Options :

- 1. ✘ A, B & C only  
A, B & C మాత్రమే
- 2. ✘ A, D & E only  
A, D & E మాత్రమే
- 3. ✘ B, C & D only  
B, C & D మాత్రమే
- 4. ✔ C, D & E only  
C, D & E మాత్రమే

Question Number : 4 Question Id : 7646925123 Question Type : MCQ Option Shuffling : Yes Is Question Mandatory : No Calculator : None Response Time : N.A Think Time : N.A Minimum Instruction Time : 0 Correct Marks : 1 Wrong Marks : 0.25

Which of the following cities were awarded first three cleanest cities in the category of 'more than 1 lakh population' under the Swachh Survekshan 2022 as part of Swachh Bharat Mission - Urban 2.0?

سوچھ بھارت مشن - شہری 2.0 کے حصے کے طور پر سوچھ سرویکشن 2022 کے 1 لاکھ سے زیادہ آبادی کے زمرے میں مندرجہ ذیل میں سے کس شہر کو پہلے تین سب سے صاف شہرے شہروں کے خطاب سے نوازا گیا؟

A) Bengaluru

بنگلورو

B) Chandigarh

چنڈی گڑھ

C) Indore

اندور

D) Navi Mumbai

نوی ممبئی

E) Surat

سورت

Choose the correct answer:

درست جواب کا انتخاب کیجئے :

Options :

A, B & C only

1. ✘ صرف A, B اور C

A, D & E only

2. ✘ صرف A, D اور E

B, C & D only

3. ✘ صرف B, C اور D



C, D & E only

4. ✓ E اور D, C صرف

Question Number : 5 Question Id : 7646925124 Question Type : MCQ Option Shuffling : Yes Is Question Mandatory : No Calculator : None Response Time : N.A Think Time : N.A Minimum Instruction Time : 0 Correct Marks : 1 Wrong Marks : 0.25

Which of the following is/are correct with regard to the induction of Light Combat Helicopter (LCH) in India in October 2022?

అక్టోబర్ 2022లో భారతదేశంలో తేలికపాటి యుద్ధ హెలికాప్టర్ (LCH)ను ప్రవేశపెట్టడానికి సంబంధించి కింది వాటిలో సరైనవి ఏవి/సరైనది ఏది?

A) It was named as 'Marut'

దీనికి 'మారుత్' అని పేరు పెట్టారు.

B) It was designed and developed by Hindustan Aeronautics Ltd (HAL).

దీనిని హిందుస్థాన్ ఏరోనాటిక్స్ లిమిటెడ్ (HAL) డిజైన్ చేసి అభివృద్ధి చేసింది.

C) It was inducted into the Indian Air Force (IAF) in Jodhpur.

ఇది జోధ్పూర్ లోని భారత వైమానిక దళంలోకి చేర్చబడింది.

Choose the correct answer:

సరైన సమాధానాన్ని ఎంచుకోండి:

Options :

1. ✘ A, B & C

A & B only

2. ✘ A & B మాత్రమే

B & C only

3. ✓ B & C మాత్రమే

C only

4. ✘ C మాత్రమే

Question Number : 5 Question Id : 7646925124 Question Type : MCQ Option Shuffling : Yes Is Question Mandatory : No Calculator : None Response Time : N.A Think Time : N.A Minimum Instruction Time : 0 Correct Marks : 1 Wrong Marks : 0.25

Which of the following is/are correct with regard to the induction of Light Combat Helicopter(LCH) in India in October 2022?

اکتوبر 2022 میں بھارت میں ہلکے لڑاکا ہیلی کاپٹر (ایل سی ایچ) کی شمولیت کے سلسلے میں مندرجہ ذیل میں سے کون سا/سے درست ہے/ہیں؟

- A) It was named as 'Marut'  
اس کا نام ماروت رکھا گیا۔
- B) It was designed and developed by Hindustan Aeronautics Ltd (HAL).  
یہ بھارت ایروناٹکس لمیٹڈ (ایچ اے ایل) کے ذریعے ڈیزائن اور تیار کیا گیا۔
- C) It was inducted into the Indian Air Force (IAF) in Jodhpur  
اسے جوڈھپور میں انڈین ایئر فورس (آئی اے ایف) میں شامل کیا گیا۔

Choose the correct answer:

درست جواب کا انتخاب کیجئے :

Options :

A, B & C

1. ✘ C اور B، A

A & B only

2. ✘ صرف A اور B

B & C only

3. ✔ صرف B اور C

C only

4. ✘ صرف C

Question Number : 6 Question Id : 7646925125 Question Type : MCQ Option Shuffling : Yes Is Question Mandatory : No Calculator : None Response Time : N.A Think Time : N.A Minimum Instruction Time : 0 Correct Marks : 1 Wrong Marks : 0.25

Which one of the following was awarded a project to build multi model logistics park(MMLP) in Chennai by the Government of India?

భారత ప్రభుత్వంచే చెన్నైలో మల్టీ మోడల్ లాజిస్టిక్స్ పార్క్ (MMLP)ని నిర్మించే ప్రాజెక్టు కింది సంస్థలలో దేనికి లభించింది?

Options :

1. ✘ Adani Enterprises (AEL)  
అదానీ ఎంటర్ప్రైజెస్ (AEL)
2. ✘ L & T Infrastructure Development Projects Ltd. (L&TIDPL)  
L & T ఇన్ఫ్రాస్ట్రక్చర్ డెవలప్‌మెంట్ ప్రాజెక్ట్స్ లిమిటెడ్ (L & TIDPL)
3. ✘ National Construction Company (NCC)  
నేషనల్ కన్స్ట్రక్షన్ కంపెనీ (NCC)
4. ✔ Reliance Industries Limited (RIL)  
రిలయన్స్ ఇండస్ట్రీస్ లిమిటెడ్ (RIL)

Question Number : 6 Question Id : 7646925125 Question Type : MCQ Option Shuffling : Yes Is Question Mandatory : No Calculator : None Response Time : N.A Think Time : N.A Minimum Instruction Time : 0 Correct Marks : 1 Wrong Marks : 0.25

Which one of the following was awarded a project to build multimodel logistics park(MMLP) in Chennai by the Government of India?

مندرجہ ذیل میں سے کس کو بھارت سرکار نے چنئی میں ملٹی ماڈل لاجسٹکس پارک (ایم ایم ایل پی) کی تعمیر کا پروجیکٹ دیا ہے؟

Options :

1. ✘ Adani Enterprises (AEL)  
اڈانی انٹرپرائزز (اے ای ایل)
2. ✘ L & T Infrastructure Devpt. Projects Ltd. (L&TIDPL)  
ایل اینڈ ٹی انفراسٹرکچر ڈیولپمنٹ پروجیکٹس لمیٹڈ (ایل اینڈ ٹی آئی ڈی پی ایل)
3. ✘ National Construction Company (NCC)  
نیشنل کنسٹرکشن کمپنی (این سی سی)

Reliance Industries Ltd. (RIL)

ریلیانس انڈسٹریز لمیٹڈ (آر آئی ایل)

4. ✓

Question Number : 7 Question Id : 7646925126 Question Type : MCQ Option Shuffling : Yes Is Question Mandatory : No Calculator : None Response Time : N.A Think Time : N.A Minimum Instruction Time : 0 Correct Marks : 1 Wrong Marks : 0.25

Which of the following statements are correct in respect of the Booker Prize?

బుకర్ ప్రైజ్ కు సంబంధించి కింది వ్యాఖ్యలలో ఏవి సరైనవి?

A) Georgi Gospodinov and Angela Rodel have won the International Booker Prize 2023.

జార్జి గోస్పోడినోవ్ మరియు ఏంజెలా రోడెల్ అంతర్జాతీయ బుకర్ ప్రైజ్ 2023 గెలుచుకున్నారు.

B) They won the prize for the novel Time Shelter.

వారు టైమ్ షెల్టర్ అనే నవల కోసం బహుమతిని గెలుచుకున్నారు.

C) Time Shelter becomes the first novel originally published in Bulgarian to win the prize.

C) బల్గేరియన్ లో ప్రచురించబడి బహుమతిని గెలుచుకున్న మొదటి నవల టైమ్ షెల్టర్.

D) Time Shelter is originally published in French and translated to English by Angela Rodel.

D) టైమ్ షెల్టర్ మొదట ఫ్రెంచ్ లో ప్రచురించబడింది మరియు ఏంజెలా రోడెల్ దానిని ఆంగ్లంలోకి అనువదించారు.

Choose the correct answer:

సరైన సమాధానాన్ని ఎంచుకోండి:

Options :

A & C only

1. ✘ A & C మాత్రమే

B & D only

2. ✘ B & D మాత్రమే

A, B & C only

3. ✓ A, B & C మాత్రమే

A, B, C & D

4. ✘

Question Number : 7 Question Id : 7646925126 Question Type : MCQ Option Shuffling : Yes Is Question Mandatory : No Calculator : None Response Time : N.A Think Time : N.A Minimum Instruction Time : 0



Correct Marks : 1 Wrong Marks : 0.25

Which of the following statements are correct in respect of the Booker Prize?

بکر پرائز کے حوالے سے مندرجہ ذیل میں سے کون سے بیان درست ہیں؟

A) Georgi Gospodinov and Angela Rodel have won the International Booker Prize 2023.

جارجی گوسپوڈینو اور انجیلا روڈیل نے بین الاقوامی بکر پرائز 2023 جیتا۔

B) They won the prize for the novel Time Shelter.

انھوں نے ٹائم شیلٹر نامی ناول کے لیے یہ انعام جیتا۔

C) Time Shelter becomes the first novel originally published in Bulgarian to win the prize.

ٹائم شیلٹر بلغاریہ میں شائع ہونے والا پہلا ناول بن گیا ہے جسے بکر ایوارڈ حاصل ہوا۔

D) Time Shelter is originally published in French and translated to English by Angela Rodel.

ٹائم شیلٹر اصل میں فرانسیسی زبان میں شائع ہوا اور انجیلا روڈیل نے اس کا انگریزی میں ترجمہ کیا ہے۔

Choose the correct answer:

درست جواب کا انتخاب کیجئے:

Options :

A & C only

1. ✘ صرف A اور C

B & D only

2. ✘ صرف B اور D

A, B & C only

3. ✔ صرف B, A اور C



A, B, C & D

D,C,B,A

4. ✘

Question Number : 8 Question Id : 7646925127 Question Type : MCQ Option Shuffling : Yes Is Question Mandatory : No Calculator : None Response Time : N.A Think Time : N.A Minimum Instruction Time : 0 Correct Marks : 1 Wrong Marks : 0.25

Where did the scientists discover evidence of the 'Trapping Zone' – creating Oasis of Oceanic Life?

సముద్ర జీవుల ఒయాసిస్ ను సృష్టించే 'ట్రాపింగ్ జోన్' సాక్ష్యాలను శాస్త్రవేత్తలు ఎక్కడ కనుగొన్నారు?

Options :

Solomon Islands

1. ✘ సోలమన్ దీవులు

Papua New Guinea

2. ✘ పాపువా న్యూ గినియా

Mauritius

3. ✘ మారిషస్

Maldives

4. ✔ మాల్దీవులు

Question Number : 8 Question Id : 7646925127 Question Type : MCQ Option Shuffling : Yes Is Question Mandatory : No Calculator : None Response Time : N.A Think Time : N.A Minimum Instruction Time : 0 Correct Marks : 1 Wrong Marks : 0.25

Where did the scientists discover evidence of the 'Trapping Zone' - creating Oasis of Oceanic Life?

سائنس دانوں کو ٹریپنگ زون، یعنی بحری زندگی کا نخلستان بنانے کے ثبوت کہاں سے ملے؟

Options :

Solomon Islands

1. ✘ جزائر سلیمان

Papua New Guinea

2. ✘ پاپوا نیو گنی

Mauritius

3. ✘ ماریشس

Maldives

4. ✔ مالدیپ

Question Number : 9 Question Id : 7646925128 Question Type : MCQ Option Shuffling : Yes Is Question Mandatory : No Calculator : None Response Time : N.A Think Time : N.A Minimum Instruction Time : 0 Correct Marks : 1 Wrong Marks : 0.25

Match the organizations with their motto

సంస్థలను వాటి లక్ష్యాలతో జతపరచండి

- |  |   |
|--|---|
| A) Indian Army<br>ఇండియన్ ఆర్మీ                        | i) Nabhah sparsham deeptam<br>నభ స్పృశం దీప్తమ్               |
| B) Indian Air Force<br>ఇండియన్ ఎయిర్ ఫోర్స్            | ii) Sham-no Varuna<br>శమ్-నో వరుణ                             |
| C) Indian Navy<br>ఇండియన్ నేవీ                         | iii) Sarvartra Sarvottam Suraksha<br>సర్వత్ర సర్వోత్తం సురక్ష |
| D) National Security Guard<br>నేషనల్ సెక్యూరిటీ గార్డ్ | iv) Sewa Paramo Dharma<br>సేవా పరమో ధర్మం                     |

Options :

1. ✘ A – i, B – ii, C – iii, D – iv

2. ✔ A – iv, B – i, C – ii, D – iii

3. ✘ A – iv, B – iii, C – ii, D – i

4. ✘ A – i, B – ii, C – iv, D – iii

Question Number : 9 Question Id : 7646925128 Question Type : MCQ Option Shuffling : Yes Is Question Mandatory : No Calculator : None Response Time : N.A Think Time : N.A Minimum Instruction Time : 0 Correct Marks : 1 Wrong Marks : 0.25

Match the organizations with their motto

تنظیموں کو ان کے مقصد کے ساتھ جوڑیے

- |                            |                                   |
|----------------------------|-----------------------------------|
| A) Indian Army             | i) Nabha sparsham deeptam         |
| بھارتی فوج                 | نابھا اسپرشم دپتتم                |
| B) Indian Air Force        | ii) Sham-no Varuna                |
| انڈین ایئر فورس            | شام-نو ورونا                      |
| C) Indian Navy             | iii) Sarvartra Sarvottam Suraksha |
| بھارتی بحریہ               | سرور ترا سروتتم سرکشا             |
| D) National Security Guard | iv) Sewa Paramo Dharma            |
| نیشنل سکیورٹی گارڈ         | سیوا پر مو دھرم                   |

Options :

1. ✘ A - i, B - ii, C - iii, D - iv
2. ✔ A - iv, B - i, C - ii, D - iii
3. ✘ A - iv, B - iii, C - ii, D - i
4. ✘ A - i, B - ii, C - iv, D - iii

Question Number : 10 Question Id : 7646925129 Question Type : MCQ Option Shuffling : Yes Is Question Mandatory : No Calculator : None Response Time : N.A Think Time : N.A Minimum Instruction Time : 0 Correct Marks : 1 Wrong Marks : 0.25

The loss of Indian citizenship to any person can be the result of

ఎవరైనా ఒక వ్యక్తి భారతీయ పౌరసత్వాన్ని కోల్పోవడం దేని ఫలితంగా జరుగవచ్చు.

- A) Termination  
రద్దు కావడం
- B) Deprivation  
ఉపసంహరించడం
- C) Renunciation  
త్యజించడం
- D) Non resident status  
ప్రవాస హోదా

Options :

A & B only

1. ✘ A & B మాత్రమే

B & C only

2. ✘ B & C మాత్రమే

A, B & C only

3. ✔ A, B & C మాత్రమే

B, C & D only

4. ✘ B, C & D మాత్రమే

Question Number : 10 Question Id : 7646925129 Question Type : MCQ Option Shuffling : Yes Is Question Mandatory : No Calculator : None Response Time : N.A Think Time : N.A Minimum Instruction Time : 0 Correct Marks : 1 Wrong Marks : 0.25

The loss of Indian citizenship to any person can be the result of

کسی بھی فرد کی بھارتی شہریت سے محرومی اس کے نتیجے میں ہو سکتی ہے۔

A) Termination

برطانی

B) Deprivation

محرومی

C) Renunciation

تج دینا

D) Non resident status

غیر اقامتی حیثیت

Options :

A & B only

1. ✘ صرف A اور B

B & C only

2. ✘ C اور B صرف

A, B & C only

3. ✔ C اور B, A صرف

B, C & D only

4. ✘ D اور C, B صرف

Question Number : 11 Question Id : 7646925130 Question Type : MCQ Option Shuffling : Yes Is Question Mandatory : No Calculator : None Response Time : N.A Think Time : N.A Minimum Instruction Time : 0 Correct Marks : 1 Wrong Marks : 0.25

Under which article of the Indian constitution, freedom of press against censorship is guaranteed

భారత రాజ్యాంగంలోని ఏ ఆర్టికల్ అనుసరించి సెన్సార్ షిప్ కు వ్యతిరేకంగా పత్రిక స్వాతంత్ర్యాన్ని హామీ ఇచ్చారు.

Options :

Article 12

1. ✘ ఆర్టికల్ 12

Article 14

2. ✘ ఆర్టికల్ 14

Article 18

3. ✘ ఆర్టికల్ 18

Article 19

4. ✔ ఆర్టికల్ 19

Question Number : 11 Question Id : 7646925130 Question Type : MCQ Option Shuffling : Yes Is Question Mandatory : No Calculator : None Response Time : N.A Think Time : N.A Minimum Instruction Time : 0 Correct Marks : 1 Wrong Marks : 0.25



Under which article of the Indian constitution, freedom of press against censorship is guaranteed

بھارتی آئین کی کس دفعہ کے تحت سنسرشپ کے خلاف پریس کی آزادی کی ضمانت دی گئی ہے۔

Options :

Article 12

1. ✘ 12 دفعہ

Article 14

2. ✘ 14 دفعہ

Article 18

3. ✘ 18 دفعہ

Article 19

4. ✔ 19 دفعہ

Question Number : 12 Question Id : 7646925131 Question Type : MCQ Option Shuffling : Yes Is Question Mandatory : No Calculator : None Response Time : N.A Think Time : N.A Minimum Instruction Time : 0 Correct Marks : 1 Wrong Marks : 0.25

The development strategies in India followed the 'import substitution policy' in the initial years of planning as part of industrial and trade policies. The Import substitution policy provides for,

భారతదేశంలో ప్రణాళిక రచన చేపట్టిన తొలిసంవత్సరాలలో పారిశ్రామిక విధానం - వ్యాపార - వాణిజ్య విధానాల రూపకల్పనలో భాగంగా "దిగుమతి ప్రత్యామ్నాయ విధానాన్ని" ఒక అభివృద్ధి వ్యూహంగా అనుసరించారు. దిగుమతి ప్రత్యామ్నాయ విధానం ప్రకారం

Options :

Costlier imports of capital goods were replaced with cheaper capital goods

1. ✘ హెచ్చు ధరల మూలధన వస్తువులకు బదులుగా తక్కువధరలు గల మూలధన వస్తువుల దిగుమతి

Imports from developed countries are replaced with imports from developing nations

అభివృద్ధి చెందిన దేశాల నుండి దిగుమతులకు బదులుగా అభివృద్ధి చెందుతున్న దేశాల నుండి దిగుమతులు

2. ✘

Imports had to be minimized and replaced with domestic goods

దిగుమతులను కనీస స్థాయిని తగ్గించి, దేశీయ వస్తువులతో అవసరాలు తీర్చడం

3. ✔

More protectionist measures of Indian goods to face the challenges of competition in global markets.

ప్రపంచ మార్కెట్లలో ఎదురయ్యే పోటీకి సంబంధించి సవాళ్లను తట్టుకోడానికి భారతీయ వస్తువులకు సంరక్షణ చర్యలు చేపట్టడం

4. ✘

Question Number : 12 Question Id : 7646925131 Question Type : MCQ Option Shuffling : Yes Is Question Mandatory : No Calculator : None Response Time : N.A Think Time : N.A Minimum Instruction Time : 0 Correct Marks : 1 Wrong Marks : 0.25

The development strategies in India followed the 'import substitution policy' in the initial years of planning as part of industrial and trade policies. The Import substitution policy provides for,

بھارت میں ترقیاتی حکمت عملی نے صنعتی اور تجارتی پالیسیوں کے حصے کے طور پر منصوبہ بندی کے ابتدائی برسوں میں درآمد متبادل پالیسی پر عمل کیا۔ درآمد متبادل پالیسی میں التزام ہے کہ:

Options :

Costlier imports of capital goods were replaced with cheaper capital goods

1. ✘ کیپٹل گڈز کی مہنگی اشیا کے بدلے سستے کیپٹل گڈز کی درآمد

Imports from developed countries are replaced with imports from developing nations

2. ✘ ترقی یافتہ ممالک سے درآمدات کی جگہ ترقی پذیر ممالک سے درآمدات کرنا۔

Imports had to be minimized and replaced with domestic goods

3. ✔ درآمدات کو کم سے کم کرنا اور دیسی اشیا سے تبدیل کرنا۔

More protectionist measures of Indian goods to face the challenges of competition in global markets.

عالمی منڈیوں میں مسابقت کے چیلنجوں کا مقابلہ کرنے کے لیے بھارتی ایشیا کے زیادہ تحفظ پسند اقدامات۔

4. ✘

Question Number : 13 Question Id : 7646925132 Question Type : MCQ Option Shuffling : Yes Is Question Mandatory : No Calculator : None Response Time : N.A Think Time : N.A Minimum Instruction Time : 0 Correct Marks : 1 Wrong Marks : 0.25

The legislative power of the State Governor described in Article 213 of the constitution of India provides for,

భారత రాజ్యాంగంలోని 213వ నిబంధన ప్రకారం రాష్ట్ర గవర్నర్ కు గల శాసన నిర్మాణ అధికారం

Options :

the Governor to give assent to the bill or withholds assent or reserves the bill for the consideration of president

గవర్నర్ ఒక బిల్లుకు ఆమోదం తెలుపవచ్చు లేదా ఆమోదం నిలిపి ఉంచవచ్చు లేదా రాష్ట్రపతి పరిశీలనకు బిల్లు రిజర్వ్ చేయవచ్చు

1. ✘

the Governor can send back the bill to the state legislature for reconsideration

రాష్ట్ర శాసన సభ తిరిగి పరిశీలించడానికి బిల్లును తిప్పి పంపవచ్చు

2. ✘

the Governor can promulgate an ordinance during the recess of state legislature

రాష్ట్ర శాసన సభ సమావేశంలో లేనప్పుడు గవర్నర్ ఆర్డినెన్స్ ను రూపొందించవచ్చు

3. ✔

the Governor cannot send back a money bill

గవర్నర్ ద్రవ్య సంబంధ బిల్లును వెనుకకు పంపరాదు.

4. ✘

Question Number : 13 Question Id : 7646925132 Question Type : MCQ Option Shuffling : Yes Is Question Mandatory : No Calculator : None Response Time : N.A Think Time : N.A Minimum Instruction Time : 0 Correct Marks : 1 Wrong Marks : 0.25

The legislative power of the State Governor described in Article 213 of the constitution provides for,

آئین کی دفعہ 213 میں بیان کردہ ریاستی گورنر کے قانون سازی کے اختیارات میں التزام ہے کہ

Options :

the Governor to give assent to the bill or withholds assent or reserves the bill for the consideration of president

1. ✘ گورنر کو اختیار ہے کہ وہ بل کو منظوری دے یا منظوری روک دے یا صدر کے غور و خوض کے لیے بل کو محفوظ رکھ لے۔

the Governor can send back the bill to the state legislature for reconsideration

2. ✘ گورنر بل کو دوبارہ غور کے لیے ریاستی مقننہ کو واپس بھیج سکتا ہے۔

the Governor can promulgate an ordinance during the recess of state legislature

3. ✔ گورنر ریاستی مقننہ کے وقفے کے دوران آرڈیننس جاری کر سکتا ہے۔

the Governor cannot send back a money bill

4. ✘ گورنر منی بل واپس نہیں بھیج سکتا۔

**Question Number : 14 Question Id : 7646925133 Question Type : MCQ Option Shuffling : Yes Is Question Mandatory : No Calculator : None Response Time : N.A Think Time : N.A Minimum Instruction Time : 0 Correct Marks : 1 Wrong Marks : 0.25**

The political ideology that believes in free competition and market economy and insist that the government should not unnecessarily intervene in the economy is called

స్వేచ్ఛాయుత పోటీతత్వం, మార్కెట్ ఆర్థిక వ్యవస్థలపై విశ్వాసము కలిగి, ప్రభుత్వం ఆర్థిక వ్యవహారాల్లో అనవసర జోక్యం చేసుకోరాదని తెలిపే రాజకీయ భావజాలంను ఇలా పిలుస్తారు

**Options :**

Communism

1. ✘ కమ్యూనిజం

Nationalism

2. ✔ జాతీయవాదం

Neoliberalism

3. ✘ నయా ఉదారవాదం



Socialism

సామ్యవాదం

4. ✘

Question Number : 14 Question Id : 7646925133 Question Type : MCQ Option Shuffling : Yes Is Question Mandatory : No Calculator : None Response Time : N.A Think Time : N.A Minimum Instruction Time : 0 Correct Marks : 1 Wrong Marks : 0.25

The political ideology that believe in free competition and market economy and insist that the government should not unnecessarily intervene in the economy is called

وہ سیاسی نظریہ جو آزاد مسابقت اور مارکیٹ اکانومی پر یقین رکھتا ہو اور اس بات پر اصرار کرتا ہو کہ حکومت کو معیشت میں غیر ضروری مداخلت نہیں کرنی چاہیے اسے کیا کہا جاتا ہے۔

Options :

Communism

1. ✘ کمیونزم

Nationalism

2. ✓ قوم پرستی

Neoliberalism

3. ✘ نیولبرل ازم

Socialism

4. ✘ سوشلزم

Question Number : 15 Question Id : 7646925134 Question Type : MCQ Option Shuffling : Yes Is Question Mandatory : No Calculator : None Response Time : N.A Think Time : N.A Minimum Instruction Time : 0 Correct Marks : 1 Wrong Marks : 0.25

The constitutional amendment that has reduced the age of right to vote to 18 years from 21 years was

ఓటు హక్కు కనీస వయస్సును 21 సంవత్సరాల నుండి 18 సంవత్సరాలకు తగ్గిస్తూ రూపొందిన రాజ్యాంగ సవరణ ఏది?

Options :



61<sup>st</sup> Amendment Act, 1988

61వ రాజ్యాంగ సవరణ చట్టం, 1988

1. ✓

62<sup>nd</sup> Amendment Act, 1988

62వ రాజ్యాంగ సవరణ చట్టం, 1988

2. ✘

42<sup>nd</sup> Amendment Act, 1976

42వ రాజ్యాంగ సవరణ చట్టం, 1976

3. ✘

43<sup>rd</sup> Amendment Act, 1977

43వ రాజ్యాంగ సవరణ చట్టం, 1977

4. ✘

**Question Number : 15 Question Id : 7646925134 Question Type : MCQ Option Shuffling : Yes Is Question Mandatory : No Calculator : None Response Time : N.A Think Time : N.A Minimum Instruction Time : 0 Correct Marks : 1 Wrong Marks : 0.25**

The constitutional amendment that has reduced the age of right to vote to 18 years from 21 years was

آئینی ترمیم جس میں حق رائے دہی کی عمر 21 سال سے کم کر کے 18 سال کر دی گئی

**Options :**

61<sup>st</sup> Amendment Act, 1988

1. ✓ 61<sup>st</sup> Amendment Act, 1988

62<sup>nd</sup> Amendment Act, 1988

2. ✘ 62<sup>nd</sup> Amendment Act, 1988

42<sup>nd</sup> Amendment Act, 1976

3. ✘ 42<sup>nd</sup> Amendment Act, 1976

43<sup>rd</sup> Amendment Act, 1977

4. ✘ 43<sup>rd</sup> Amendment Act, 1977

Question Number : 16 Question Id : 7646925135 Question Type : MCQ Option Shuffling : Yes Is Question Mandatory : No Calculator : None Response Time : N.A Think Time : N.A Minimum Instruction Time : 0 Correct Marks : 1 Wrong Marks : 0.25

The 1990s decade witnessed certain fundamental reorientations in the Indian political system. Identify these developments by using the codes.

భారత రాజకీయ వ్యవస్థ 1990 దశకంలో కొన్ని మౌలిక అనుభవాలు చవిచూసింది. కోడ్ ల ఆధారంగా ఈ పరిణామాలను గుర్తించండి.

- A) New Reservation Policy  
నూతన రిజర్వేషన్ విధానం
- B) Tribal upsurge  
తెగల తిరుగుబాటు
- C) Neo liberal economic reforms  
నయా ఉదారవాద ఆర్థిక సంస్కరణలు
- D) Congress dominance  
కాంగ్రెస్ అధిపత్యం
- E) Rise of Hindutva Politics  
హిందుత్వ రాజకీయాల వికాసం

Options :

- 1. ✘ A, B & E only  
A, B & E మాత్రమే
- 2. ✘ A, B & D only  
A, B & D మాత్రమే
- 3. ✔ A, C & E only  
A, C & E మాత్రమే
- 4. ✘ C, D & E only  
C, D & E మాత్రమే

Question Number : 16 Question Id : 7646925135 Question Type : MCQ Option Shuffling : Yes Is Question Mandatory : No Calculator : None Response Time : N.A Think Time : N.A Minimum Instruction Time : 0 Correct Marks : 1 Wrong Marks : 0.25

The 1990s decade witnessed certain fundamental reorientations in the Indian political system. Identify these developments by using the codes.

1990 کی دہائی میں بھارتی سیاسی نظام میں کچھ بنیادی تبدیلیاں دیکھنے میں آئیں۔ کوڈز کا استعمال کرتے ہوئے ان پیش رفتوں کی شناخت کریں۔

A) New Reservation Policy

نئی ریزرویشن پالیسی

B) Tribal upsurge

قبائلی شورش

C) Neo liberal economic reforms

نیولبرل معاشی اصلاحات

D) Congress dominance

کانگریس کا غلبہ

E) Rise of Hindutva Politics

ہندوتوا کی سیاست کا عروج

Options :

A, B & E only

1. ✘ صرف A, B اور E

A, B & D only

2. ✘ صرف A, B اور D

A, C & E only

3. ✔ صرف A, C اور E

C, D & E only

4. ✘ صرف C, D اور E

Correct Marks : 1 Wrong Marks : 0.25

The chief executive of the Union Territory of Chandigarh is designated as

కేంద్ర పాలిత ప్రాంతమైన చండీఘడ్ ప్రధాన కార్యనిర్వహణ అధికారిని ఏమని వ్యవహరిస్తారు.

Options :

Governor

1. ✘ గవర్నర్

Lieutenant Governor

2. ✘ లెఫ్టనెంట్ గవర్నర్

Administrator

3. ✔ అడ్మినిస్ట్రేటర్

Chief Minister

4. ✘ ముఖ్యమంత్రి

Question Number : 17 Question Id : 7646925136 Question Type : MCQ Option Shuffling : Yes Is Question Mandatory : No Calculator : None Response Time : N.A Think Time : N.A Minimum Instruction Time : 0

Correct Marks : 1 Wrong Marks : 0.25

The chief executive of the Union Territory of Chandigarh is designated as

مرکز کے زیر انتظام علاقے چنڈی گڑھ کے چیف ایگزیکٹو کو کیا کہا جاتا ہے :

Options :

Governor

1. ✘ گورنر

Lieutenant Governor

2. ✘ لیفٹیننٹ گورنر

Administrator

3. ✔ ایڈمنسٹریٹر

Chief Minister

4. ✘ وزیر اعلیٰ

Question Number : 18 Question Id : 7646925137 Question Type : MCQ Option Shuffling : Yes Is Question Mandatory : No Calculator : None Response Time : N.A Think Time : N.A Minimum Instruction Time : 0 Correct Marks : 1 Wrong Marks : 0.25

Which of the following statements on N.C. Saxena Committee are correct?

N. C. సక్సేనా కమిటీకి సంబంధించిన కింది వ్యాఖ్యలలో ఏవి సరైనవి?

- A) It was constituted by the Ministry of Rural Development.  
దీనిని గ్రామీణాభివృద్ధి మంత్రిత్వ శాఖ ఏర్పాటు చేసింది.
- B) It was constituted by the Ministry of Finance to define poverty line.  
దారిద్ర్య రేఖను నిర్వచించడానికి ఆర్థిక మంత్రిత్వ శాఖ దీనిని ఏర్పాటు చేసింది.
- C) It was set up to propose a new methodology for identifying BPL households.  
బిపిఎల్ కుటుంబాలను గుర్తించడానికి కొత్త పద్ధతిని ప్రతిపాదించడానికి ఇది ఏర్పాటు చేయబడింది.

Choose the correct answer:

సరైన సమాధానాన్ని ఎంచుకోండి:

Options :

- A & B only  
1. ✘ A & B మాత్రమే
- A & C only  
2. ✔ A & C మాత్రమే
- B & C only  
3. ✘ B & C మాత్రమే
- A, B & C  
4. ✘ A, B & C

Question Number : 18 Question Id : 7646925137 Question Type : MCQ Option Shuffling : Yes Is Question Mandatory : No Calculator : None Response Time : N.A Think Time : N.A Minimum Instruction Time : 0 Correct Marks : 1 Wrong Marks : 0.25



Which of the following statements on N.C. Saxena Committee are correct?

این سی سکسینہ کمیٹی کے بارے میں مندرجہ ذیل میں سے کون سے بیان درست ہیں؟

A) It was constituted by the Ministry of Rural Development.

اس کی تشکیل دیہی ترقی کی وزارت نے کی تھی۔

B) It was constituted by the Ministry of Finance to define poverty line.

یہ وزارت خزانہ کی طرف سے خط غربت کی تعریف وضع کرنے کے لیے تشکیل دیا گیا تھا۔

C) It was set up to propose a new methodology for identifying BPL households.

یہ خط غربت سے نیچے زندگی بسر کرنے والے لوگوں کی شناخت کے لیے ایک نیا طریقہ کار تجویز کرنے کے لیے قائم کیا گیا تھا۔

Choose the correct answer:

درست جواب کا انتخاب کیجئے:

Options :

A & B only

1. ✘ صرف A اور B

A & C only

2. ✔ صرف A اور C

B & C only

3. ✘ صرف B اور C

A, B & C

4. ✘ صرف B, A اور C

Question Number : 19 Question Id : 7646925138 Question Type : MCQ Option Shuffling : Yes Is Question Mandatory : No Calculator : None Response Time : N.A Think Time : N.A Minimum Instruction Time : 0 Correct Marks : 1 Wrong Marks : 0.25

Which district from the following is **NOT** part of the Phase-1 of the 'Transformation of Aspirational Districts' programme of government of India?

కింది వాటిలో ఏ జిల్లా భారత ప్రభుత్వం యొక్క 'ఆస్పిరేషనల్ జిల్లాల రూపాంతరం' కార్యక్రమపు ఫేజ్ -1 లో భాగం కాదు?

Options :

Adilabad

1. ✘ ఆదిలాబాద్

Khammam

2. ✘ ఖమ్మం

Warangal Rural

3. ✘ వరంగల్ రూరల్

Mahabubnagar

4. ✔ మహబూబ్ నగర్

Question Number : 19 Question Id : 7646925138 Question Type : MCQ Option Shuffling : Yes Is Question Mandatory : No Calculator : None Response Time : N.A Think Time : N.A Minimum Instruction Time : 0 Correct Marks : 1 Wrong Marks : 0.25

Which district from the following is NOT part of the Phase-1 of the 'Transformation of Aspirational Districts' programme of government of India?

مندرجہ ذیل میں سے کون سا ضلع بھارت سرکار کے 'خوابش مند اضلاع کی تبدیلی' پروگرام کے پہلے مرحلے کا حصہ نہیں ہے؟

Options :

Adilabad

1. ✘ عادل آباد

Khammam

2. ✘ کھمم

Warangal Rural

3. ✘ ورنگل رورل

Mahabubnagar

4. ✔ محبوب نگر

Question Number : 20 Question Id : 7646925139 Question Type : MCQ Option Shuffling : Yes Is Question Mandatory : No Calculator : None Response Time : N.A Think Time : N.A Minimum Instruction Time : 0 Correct Marks : 1 Wrong Marks : 0.25

The National Policy for the Empowerment of Women was adopted in:

మహిళా సాధికారత కోసం జాతీయ విధానం ఆమోదించబడిన సంవత్సరం:

Options :

1. ✘ 1990
2. ✔ 2001
3. ✘ 2011
4. ✘ 2015

Question Number : 20 Question Id : 7646925139 Question Type : MCQ Option Shuffling : Yes Is Question Mandatory : No Calculator : None Response Time : N.A Think Time : N.A Minimum Instruction Time : 0 Correct Marks : 1 Wrong Marks : 0.25

The National Policy for the Empowerment of Women was adopted in:

خواتین کو بااختیار بنانے کے لیے قومی پالیسی کو اس سال اپنایا گیا:

Options :

1. ✘ 1990
2. ✔ 2001
3. ✘ 2011
4. ✘ 2015

Question Number : 21 Question Id : 7646925140 Question Type : MCQ Option Shuffling : Yes Is Question Mandatory : No Calculator : None Response Time : N.A Think Time : N.A Minimum Instruction Time : 0 Correct Marks : 1 Wrong Marks : 0.25

ALIMCO stands for

ALIMCO అంటే

Options :

Associated Limbs Manufacturing Corporation of India

1. ✘ అసోసియేటెడ్ లింబ్స్ మాన్యుఫ్యాక్చరీంగ్ కార్పొరేషన్ ఆఫ్ ఇండియా

Associated Livelihood Maintenance Cooperation Organization

2. ✘ అసోసియేటెడ్ లైవి హుడ్ మెయిన్టేనెన్స్ కోఆపరేషన్ ఆర్గనైజేషన్

Artificial Limbs Manufacturing Corporation of India

3. ✔ ఆర్టిఫిషియల్ లింబ్స్ మాన్యుఫ్యాక్చరీంగ్ కార్పొరేషన్ ఆఫ్ ఇండియా

All India Manufacturers of Computers

4. ✘ ఆల్ ఇండియా మాన్యుఫ్యాక్చరర్స్ ఆఫ్ కంప్యూటర్స్

Question Number : 21 Question Id : 7646925140 Question Type : MCQ Option Shuffling : Yes Is Question Mandatory : No Calculator : None Response Time : N.A Think Time : N.A Minimum Instruction Time : 0 Correct Marks : 1 Wrong Marks : 0.25

ALIMCO stands for

ALIMCO کس کا مخفف ہے:

Options :

Associated Limbs Manufacturing Corporation of India

1. ✘ اسوسی ایٹڈ لمبس مینوفیکچرنگ کارپوریشن آف انڈیا

Associated Livelihood Maintenance Cooperation Organization

2. ✘ اسوسی ایٹڈ لیولی ہڈ مینٹیننس کوآپریشن آرگنائزیشن

Artificial Limbs Manufacturing Corporation of India

3. ✔ آرٹیفیشل لمبس مینوفیکچرنگ کارپوریشن آف انڈیا

All India Manufacturers of Computers

4. ✘ آل انڈیا مینوفیکچررس آف کمپیوٹرس

Question Number : 22 Question Id : 7646925141 Question Type : MCQ Option Shuffling : Yes Is Question Mandatory : No Calculator : None Response Time : N.A Think Time : N.A Minimum Instruction Time : 0 Correct Marks : 1 Wrong Marks : 0.25

Assertion (A): Globalization leads to spatial exclusion.

వాదన (A) : ప్రపంచీకరణ ప్రాదేశిక మినహాయింపుకు దారితీస్తుంది.

Reason (R) : Poor could not grasp employment opportunities provided by the globalization due to their laziness and lack of motivation.

కారణం (R) : సోమరితనం మరియు ప్రేరణ లేకపోవడం వల్ల ప్రపంచీకరణ ద్వారా అందించబడిన ఉపాధి అవకాశాలను పేదలు అందుకోలేకపోయారు.

Choose the correct answer:

సరైన సమాధానాన్ని ఎంచుకోండి:

Options :

Both (A) and (R) are true and (R) is the correct explanation of (A)

1. ✘ (A) మరియు (R) రెండూ సత్యం మరియు (R) అనేది (A) యొక్క సరైన వివరణ

Both (A) and (R) are true, but (R) is not the correct explanation of (A)

2. ✘ (A) మరియు (R) రెండూ సత్యం, కానీ (R) అనేది (A) కి సరైన వివరణ కాదు

(A) is true, but (R) is false

3. ✔ (A) సత్యం, కానీ (R) అసత్యం

(A) is false, but (R) is true

4. ✘ (A) అసత్యం, కానీ (R) సత్యం

Question Number : 22 Question Id : 7646925141 Question Type : MCQ Option Shuffling : Yes Is Question Mandatory : No Calculator : None Response Time : N.A Think Time : N.A Minimum Instruction Time : 0 Correct Marks : 1 Wrong Marks : 0.25

Assertion (A) : Globalization leads to spatial exclusion.

(A) دعویٰ - گلوبلائزیشن مقامی عدم شمولیت کا باعث بنتی ہے۔

Reason (R) : Poor could not grasp employment opportunities provided by the globalization due to their laziness and lack of motivation.

(R) سبب - غریب اپنی سستی اور تحریک کی کمی کی وجہ سے گلوبلائزیشن کے فراہم کردہ روزگار کے مواقع سے فائدہ نہیں اٹھا سکے۔

Choose the correct answer:

درست جواب کا انتخاب کیجئے:

Options :



Both (A) and (R) are true and (R) is the correct explanation of (A)

1. ✘ (A) اور (R) دونوں درست ہیں اور (R) (A) کی درست وضاحت ہے۔

Both (A) and (R) are true, but (R) is not the correct explanation of (A)

2. ✘ (A) اور (R) دونوں درست ہیں، لیکن (R) (A) کی درست وضاحت نہیں ہے۔

(A) is true, but (R) is false

3. ✔ (A) درست ہے، لیکن (R) غلط ہے

(A) is false, but (R) is true

4. ✘ (A) غلط ہے، لیکن (R) درست ہے۔

**Question Number : 23 Question Id : 7646925142 Question Type : MCQ Option Shuffling : Yes Is Question Mandatory : No Calculator : None Response Time : N.A Think Time : N.A Minimum Instruction Time : 0 Correct Marks : 1 Wrong Marks : 0.25**

Assertion (A): The COVID-19 pandemic exposed the deep-rooted systemic inequalities in India.

వాదన (A) : COVID-19 మహమ్మారి భారతదేశంలో లోతుగా పాతుకుపోయిన వ్యవస్థాగత అసమానతలను బహిర్గతం చేసింది.

Reason (R) : Women were affected more by increasing rates of domestic violence as a result of lockdowns and stress.

కారణం (R) : లాక్డౌన్లు మరియు ఒత్తిడి ఫలితంగా పెరుగుతున్న గృహ హింస రేట్ల కారణంగా మహిళలు ఎక్కువగా ప్రభావితం అయ్యారు.

Choose the correct answer:

సరైన సమాధానాన్ని ఎంచుకోండి:

**Options :**

Both (A) and (R) are true and (R) is the correct explanation of (A)

(A) మరియు (R) రెండూ సత్యం మరియు (R) అనేది (A) యొక్క సరైన వివరణ

1. ✔



Both (A) and (R) are true, but (R) is not the correct explanation of (A)

2. ✘ (A) మరియు (R) రెండూ సత్యం, కానీ (R) అనేది (A)కి సరైన వివరణ కాదు

(A) is true, but (R) is false

3. ✘ (A) సత్యం, కానీ (R) అసత్యం

(A) is false, but (R) is true

4. ✘ (A) అసత్యం, కానీ (R) సత్యం

Question Number : 23 Question Id : 7646925142 Question Type : MCQ Option Shuffling : Yes Is Question Mandatory : No Calculator : None Response Time : N.A Think Time : N.A Minimum Instruction Time : 0 Correct Marks : 1 Wrong Marks : 0.25

Assertion (A) : The COVID-19 pandemic exposed the deep-rooted systemic inequalities in India.

(A) دعویٰ کووڈ-19 کی عالمی وبا نے بھارت میں گہری داخلی عدم مساوات کو بے نقاب کر دیا۔

Reason (R) : Women were affected more by increasing rates of domestic violence as a result of lockdowns and stress.

(R) سبب لاک ڈاؤن اور تناؤ کے نتیجے میں گھریلو تشدد کی بڑھتی ہوئی شرح سے خواتین زیادہ متاثر ہوئیں۔

Choose the correct answer:

درست جواب کا انتخاب کیجئے:

Options :

Both (A) and (R) are true and (R) is the correct explanation of (A)

1. ✔ (A) اور (R) دونوں درست ہیں اور (R) (A) کی درست وضاحت ہے۔

Both (A) and (R) are true, but (R) is not the correct explanation of (A)

2. ✘ (A) اور (R) دونوں درست ہیں، لیکن (R) (A) کی درست وضاحت نہیں ہے۔

(A) is true, but (R) is false

3. ✘ (A) درست ہے، لیکن (R) غلط ہے

(A) is false, but (R) is true

(A) غلط ہے، لیکن (R) درست ہے۔

4. ✘

Question Number : 24 Question Id : 7646925143 Question Type : MCQ Option Shuffling : Yes Is Question Mandatory : No Calculator : None Response Time : N.A Think Time : N.A Minimum Instruction Time : 0 Correct Marks : 1 Wrong Marks : 0.25

Consider the statements on Telangana State-Industrial Project Approval and Self-Certification System (TS-iPASS):

తెలంగాణ రాష్ట్ర-పారిశ్రామిక ప్రాజెక్ట్ ఆమోదం మరియు స్వీయ-ధృవీకరణ వ్యవస్థ (TS-iPASS) పై కింది వ్యాఖ్యలను పరిగణించండి:

A) It was enacted in 2014.

ఇది 2014లో చట్టం చేయబడింది.

B) It provides clearances to all projects within 45 days.

ఇది అన్ని ప్రాజెక్టులకు 45 రోజుల లోపు అనుమతులను అందిస్తుంది.

C) It is crucial to implement the 'Right to Clearance' guaranteed to industrialists by the state.

పారిశ్రామికవేత్తలకు రాష్ట్రం హామీ ఇచ్చిన 'క్లియరెన్స్ హక్కు'ని అమలు చేయడం చాలా కీలకం.

D) Time Limits set for each approval vary from 1 day to a maximum of 30 days depending upon on the complexity of the approval.

ప్రతి ఆమోదం కోసం తీసుకొనే గరిష్ట సమయం పరిమితి సంక్లిష్టత ఆధారంగా 1 రోజు నుండి 30 రోజుల వరకు.

Choose the correct answer:

సరైన సమాధానాన్ని ఎంచుకోండి:

Options :

A, B & C only

A, B & C మాత్రమే

1. ✘

B, C & D only

B, C & D మాత్రమే

2. ✘

A & D only

A & D మాత్రమే

3. ✘

A, C & D only

A, C & D మాత్రమే

4. ✔

Question Number : 24 Question Id : 7646925143 Question Type : MCQ Option Shuffling : Yes Is Question Mandatory : No Calculator : None Response Time : N.A Think Time : N.A Minimum Instruction Time : 0 Correct Marks : 1 Wrong Marks : 0.25

Consider the statements on Telangana State-Industrial Project Approval and Self-Certification System (TS-iPASS):

تلنگانہ اسٹیٹ انڈسٹریل پروجیکٹ کی منظوری اور سیلف سرٹیفیکیشن سسٹم (ٹی ایس-آئی پاس) کے حوالے سے مندرجہ ذیل بیانات پر غور کریں:

A) It was enacted in 2014.

اس قانون کو 2014 میں وضع کیا گیا۔

B) It provides clearances to all projects within 45 days.

یہ 45 دنوں کے اندر تمام پراجیکٹس کو منظوری فراہم کرتا ہے۔

C) It is crucial to implement the 'Right to Clearance' guaranteed to industrialists by the state.

ریاست کے ذریعے صنعت کاروں کو دی گئی 'رائٹ ٹو کلیئرنس' ضمانت کو نافذ کرنا بہت ضروری ہے۔

D) Time limits set for each approval vary from 1 day to a maximum of 30 days depending upon on the complexity of the approval.

ہر منظوری کے لیے جانے والی زیادہ سے زیادہ وقت کی حد دشواری کی بنیاد پر 1 دن سے 30 دن تک۔

Choose the correct answer:

درست جواب کا انتخاب کیجئے:

Options :

A, B & C only

1. ✘ صرف A, B اور C

B, C & D only

2. ✘ صرف B, C اور D

A & D only

3. ✘ صرف A اور D

A, C & D only

Dr, C, A صرف

4. ✓

Question Number : 25 Question Id : 7646925144 Question Type : MCQ Option Shuffling : Yes Is Question Mandatory : No Calculator : None Response Time : N.A Think Time : N.A Minimum Instruction Time : 0 Correct Marks : 1 Wrong Marks : 0.25

With regard to the Forest Rights Act (FRA) 2006, read the following statements:

అటవీ హక్కుల చట్టం (FRA) 2006కి సంబంధించి క్రింది వ్యాఖ్యలను చదవండి:

A) The Forest Rights Act (FRA), 2006 recognizes the rights of the forest dwelling tribal communities – community rights as grazing, fishing and access to water bodies in forests.

అటవీ నివాస గిరిజన సంఘాల హక్కులను – పశువులను మేపడం, చేపలు పట్టడం మరియు అడవులలోని నీటి వనరులను పొందడం వంటి హక్కులను అటవీ హక్కుల చట్టం (FRA), 2006 గుర్తిస్తుంది.

B) The Act encompasses Rights of Self-cultivation and Habitation which are usually regarded as Individual rights

ఈ చట్టం స్వయం-సాగు మరియు నివాస హక్కులను కలిగి ఉంటుంది, వీటిని సాధారణంగా వ్యక్తిగత హక్కులుగా పరిగణిస్తారు

Choose the correct answer:

సరైన సమాధానాన్ని ఎంచుకోండి:

Options :

A only

A మాత్రమే

1. ✘

B only

B మాత్రమే

2. ✘

Both A & B

A & B రెండూ

3. ✓

Neither A nor B

A & B రెండూ కావు

4. ✘

Question Number : 25 Question Id : 7646925144 Question Type : MCQ Option Shuffling : Yes Is Question Mandatory : No Calculator : None Response Time : N.A Think Time : N.A Minimum Instruction Time : 0 Correct Marks : 1 Wrong Marks : 0.25



With regard to the Forest Rights Act (FRA) 2006, read the following statements:

جنگلات کے حقوق قانون (ایف آراے) 2006 کے حوالے سے مندرجہ ذیل بیانات پڑھیے:

A) The Forest Rights Act (FRA), 2006 recognizes the rights of the forest dwelling tribal communities - community rights as grazing, fishing and access to water bodies in forests.

فاریسٹ رائٹس ایکٹ (ایف آراے)، 2006 جنگل میں رہنے والی آدیواسی برادریوں کے چراگاہ، ماہی گیری اور جنگلوں میں آبی ذخائر تک رسائی کے حقوق کو تسلیم کرتا ہے۔

B) The Act encompasses rights of Self-cultivation and habitation which are usually regarded as individual rights.

یہ قانون خود-کاشتکاری اور رہائش کا حق رکھتا ہے، اسے عام طور پر شخصی حقوق کے طور پر شمار کیا جاتا ہے۔

Choose the correct answer:

درست جواب کا انتخاب کیجئے:

Options :

A only

1. ✘ صرف A

B only

2. ✘ صرف B

Both A & B

3. ✔ A اور B دونوں

Neither A nor B

4. ✘ A اور B دونوں نہیں

Question Number : 26 Question Id : 7646925145 Question Type : MCQ Option Shuffling : Yes Is Question Mandatory : No Calculator : None Response Time : N.A Think Time : N.A Minimum Instruction Time : 0 Correct Marks : 1 Wrong Marks : 0.25



Which among the following places gets its name from the thick cluster of black bangles?

దిగువ పేర్కొన్న వాటిలో దేనికి నల్లటి మందపాటి గాజుల సమూహం నుండి పేరు వచ్చింది?

Options :

1. ✘ Rakhigarhi  
రాఖీగర్హి
2. ✘ Mohenjo Daro  
మొహెంజో దారో
3. ✘ Dholavira  
ధోలవీర
4. ✔ Kalibangan  
కాళీబంగన్

Question Number : 26 Question Id : 7646925145 Question Type : MCQ Option Shuffling : Yes Is Question Mandatory : No Calculator : None Response Time : N.A Think Time : N.A Minimum Instruction Time : 0 Correct Marks : 1 Wrong Marks : 0.25

Which among the following places gets its name from the thick cluster of black bangles?

مندرجہ ذیل میں سے کس جگہ کا نام کالی موٹی چوڑیوں کے کلسٹر سے ملا ہے؟

Options :

1. ✘ Rakhigarhi  
راکھی گری
2. ✘ Mohenjo Daro  
مہن جو دارو
3. ✘ Dholavira  
دھولاویرا

Kalibangan

4. ✓ کالی بنگن

Question Number : 27 Question Id : 7646925146 Question Type : MCQ Option Shuffling : Yes Is Question Mandatory : No Calculator : None Response Time : N.A Think Time : N.A Minimum Instruction Time : 0 Correct Marks : 1 Wrong Marks : 0.25

Which among the following temples is called as 'Black Pagoda'?

ఈ కింద పేర్కొన్న ఆలయాలలో దేనిని 'నల్ల పగోడ' అని పిలుస్తారు?

Options :

Jagannath temple- Puri

1. ✘ జగన్నాథ్ దేవాలయం - పూర్వీ

Brihadeshwara temple- Tanjavur

2. ✘ బృహదీశ్వర ఆలయం - తంజావూర్

Lingarajaswamy temple- Bhubaneshwar

3. ✘ లింగరాజస్వామి ఆలయం - భువనేశ్వర్

Sun-temple- Konark

4. ✓ సూర్య దేవాలయం - కోణార్క్

Question Number : 27 Question Id : 7646925146 Question Type : MCQ Option Shuffling : Yes Is Question Mandatory : No Calculator : None Response Time : N.A Think Time : N.A Minimum Instruction Time : 0 Correct Marks : 1 Wrong Marks : 0.25

Which among the following temples is called as 'Black Pagoda'?

مندرجہ ذیل مندروں میں سے کس مندر کو بلیک پیگودا کہا جاتا ہے؟

Options :

Jagannath temple- Puri

1. ✘ جگن ناتھ مندر، پوری

Brihadeshwara temple- Tanjavur

2. ✘ برہدیشور مندر، تنجاور

Lingarajaswamy temple- Bhubaneshwar

3. ✘ लिंगराजसुवामी मन्दिर, भुवनेश्वर

Sun-temple- Konark

4. ✔ सूरज मन्दिर, कनारक

Question Number : 28 Question Id : 7646925147 Question Type : MCQ Option Shuffling : Yes Is Question Mandatory : No Calculator : None Response Time : N.A Think Time : N.A Minimum Instruction Time : 0 Correct Marks : 1 Wrong Marks : 0.25

A colossal figure of Krishna lifting the Govardhana was found at which place?

గోవర్ధనాన్ని ఎత్తుతున్న కృష్ణుడి యొక్క భారీ విగ్రహం ఏ ప్రదేశంలో కనుగొనబడింది?

Options :

Deogarh

1. ✘ దేవగఠ్

Rajgir

2. ✘ రాజ్ గిరి

Udayagiri

3. ✘ ఉదయగిరి

Varanasi

4. ✔ వారణాసి

Question Number : 28 Question Id : 7646925147 Question Type : MCQ Option Shuffling : Yes Is Question Mandatory : No Calculator : None Response Time : N.A Think Time : N.A Minimum Instruction Time : 0 Correct Marks : 1 Wrong Marks : 0.25

A colossal figure of Krishna lifting the Govardhana was found at which place?

గోవర్ధనాన్ని ఎత్తుతున్న కృష్ణుడి యొక్క భారీ విగ్రహం ఏ ప్రదేశంలో కనుగొనబడింది?

Options :

Deogarh

1. ✘ దేవగఠ్

Rajgir

2. ✘ راجگیر

Udayagiri

3. ✘ ادے گیری

Varanasi

4. ✔ وارانسی

Question Number : 29 Question Id : 7646925148 Question Type : MCQ Option Shuffling : Yes Is Question Mandatory : No Calculator : None Response Time : N.A Think Time : N.A Minimum Instruction Time : 0 Correct Marks : 1 Wrong Marks : 0.25

Which among the following is the oldest book on Indian drama?

ఈ కింద పేర్కొన్న వాటిలో భారతీయ నాటకరంగానికి చెందిన అతి పురాతనమైన గ్రంథం / పుస్తకం ఏది?

Options :

Rajatarangini

1. ✘ రాజతరంగిణి

Karpoora Manjari

2. ✘ కర్పూర మంజరి

Natya Shastra

3. ✔ నాట్య శాస్త్రము

Devichandraguptam

4. ✘ దేవీచంద్రగుప్తము

Question Number : 29 Question Id : 7646925148 Question Type : MCQ Option Shuffling : Yes Is Question Mandatory : No Calculator : None Response Time : N.A Think Time : N.A Minimum Instruction Time : 0 Correct Marks : 1 Wrong Marks : 0.25

Which among the following is the oldest book on Indian drama?

مندرجہ ذیل میں سے کون سی بھارتی ڈرامے پر سب سے پرانی کتاب ہے؟

Options :

Rajatarangini

1. ✘ راجاترنگی

Karpoora Manjari

2. ✘ کرپورہ منجری

Natya Shastra

3. ✔ نالیہ شاستر

Devichandraguptam

4. ✘ دیوی چندرگپتہ

**Question Number : 30 Question Id : 7646925149 Question Type : MCQ Option Shuffling : Yes Is Question Mandatory : No Calculator : None Response Time : N.A Think Time : N.A Minimum Instruction Time : 0 Correct Marks : 1 Wrong Marks : 0.25**

Read the following pairs

ఈ కింద జతలను చదవండి

A) Kutumbins : Cultivators

కుటుంబినులు : సాగుచేసేవారు

B) Gavundas : Village headmen

గౌండులు : గ్రామాధికారి

C) Kayasthas : Herdsmen

కాయస్థులు : పశువుల కాపరి

D) Koyali : Scribes

కోయలి : లేఖరి

Choose the correct pairs from the codes given below:

పై జతలలో ఏవి సరైనవి.

**Options :**

A & B only

1. ✔ A & B మాత్రమే

B & C only

2. ✘ B & C మాత్రమే



A & C only

3. ✘ A & C మాత్రమే

B & D only

4. ✘ B & D మాత్రమే

Question Number : 30 Question Id : 7646925149 Question Type : MCQ Option Shuffling : Yes Is Question Mandatory : No Calculator : None Response Time : N.A Think Time : N.A Minimum Instruction Time : 0 Correct Marks : 1 Wrong Marks : 0.25

Read the following pairs

مندرجہ ذیل جوڑیوں کو پڑھیے

A) Kutumbins : Cultivators

کٹمبین : کاشت کار

B) Gavundas : Village headmen

گاؤندا : گاؤں کے سربراہ

C) Kayasthas : Herdsmen

کاسٹھا : چرواہے

D) Koyali : Scribes

کویالی : منشی

Choose the correct pairs from the codes given below:

ذیل میں دیے گئے کوڈز میں سے درست جوڑی منتخب کیجئے:

Options :

A & B only

1. ✓ صرف A اور B

B & C only

2. ✘ صرف B اور C

A & C only

3. ✘ صرف A اور C

B & D only

4. ✘ D اور B صرف

Question Number : 31 Question Id : 7646925150 Question Type : MCQ Option Shuffling : Yes Is Question Mandatory : No Calculator : None Response Time : N.A Think Time : N.A Minimum Instruction Time : 0 Correct Marks : 1 Wrong Marks : 0.25

Read the following statements.

ఈ కింది పేర్కొన్న వ్యాఖ్యలను చదవండి.

A) The Mughal architecture retained many features of the Sultanate architecture.

సుల్తానేట్ వాస్తుశిల్ప కళల అనేక లక్షణాలను మొఘలుల వాస్తుశిల్ప కళలలో కొనసాగాయి.

B) New features such as pietra dura, rectangular garden settings that were added to Mughal architecture were adopted from Europe.

మొఘల్ వాస్తుశిల్ప కళలలో కొత్తలక్షణాలైన పీత్రదురా, దీర్ఘచతురస్రాకార నందనవనములు యూరప్ నుండి తీసుకొనబడినవి.

C) Mughals style of architecture excluded features from “provincial” styles.

మొఘల్ వాస్తు శిల్ప శైలిలో ప్రాంతీయ శైలిని జోడించలేదు.

D) Mughals spirit of experimentation and innovations in architecture, created high reputation worldwide.

మొఘలులు వాస్తు శిల్ప శైలిలో తీసుకువచ్చిన ప్రయోగాలు మరియు అవిష్కరణలు, ప్రపంచ వ్యాప్తంగా గొప్ప పేరును తెచ్చాయి.

Which of the above statements are correct?

పై వ్యాఖ్యలలో ఏవి సరైనవి?

Options :

A & B only

1. ✘ A & B మాత్రమే

A & C only

2. ✘ A & C మాత్రమే

B & C only

3. ✔ B & C మాత్రమే

B & D only

4. ✘ B & D మాత్రమే

Question Number : 31 Question Id : 7646925150 Question Type : MCQ Option Shuffling : Yes Is Question Mandatory : No Calculator : None Response Time : N.A Think Time : N.A Minimum Instruction Time : 0 Correct Marks : 1 Wrong Marks : 0.25

Read the following statements.

مندرجہ ذیل بیانات پڑھیں۔

- A) The Mughal architecture retained many features of the Sultanate architecture.  
مغل فن تعمیر نے سلطنت فن تعمیر کی بہت سی خصوصیات کو برقرار رکھا۔
- B) New features such as pietra dura, rectangular garden settings that were added to Mughal architecture were adopted from Europe.  
نئی خصوصیات جیسے پیٹرا ڈورا، بارہ دریاں جنھیں مغل فن تعمیر میں شامل کیا گیا، یورپ سے مستعار لی گئیں۔
- C) Mughals style of architecture excluded features from "provincial" styles.  
مغلوں کے طرز تعمیر میں، صوبائی "طرز تعمیر کی خصوصیات کو شامل نہیں کیا گیا تھا۔
- D) Mughals spirit of experimentation and innovations in architecture, created high reputation worldwide.  
مغلوں کے فن تعمیر میں تجربات اور جدت طرازی کے جذبے نے دنیا بھر میں شہرت حاصل کی۔

Which of the above statements are correct?

مندرجہ بالا میں کون سے بیان درست ہیں؟

Options :

A & B only

1. ✘ صرف A اور B

A & C only

2. ✘ صرف A اور C

B & C only

3. ✔ صرف B اور C

B & D only

4. ✘ صرف B اور D

Question Number : 32 Question Id : 7646925151 Question Type : MCQ Option Shuffling : Yes Is Question Mandatory : No Calculator : None Response Time : N.A Think Time : N.A Minimum Instruction Time : 0 Correct Marks : 1 Wrong Marks : 0.25

Which among the following Stupas was dated to Ashoka's time?

ఈ కింది వానిలో ఏ స్తూపం అశోకుని కాలం నాటిది?

Options :

1. ✘ Barhut  
బార్ఘట్

2. ✔ Sanchi  
సాంచి

3. ✘ Sarnath  
సారనాథ్

4. ✘ Taxila  
తక్షశిల

Question Number : 32 Question Id : 7646925151 Question Type : MCQ Option Shuffling : Yes Is Question Mandatory : No Calculator : None Response Time : N.A Think Time : N.A Minimum Instruction Time : 0 Correct Marks : 1 Wrong Marks : 0.25

Which among the following Stupas was dated to Ashoka's time?

مندرجہ ذیل میں سے کون سا استوپ اشوک کے زمانے کا ہے؟

Options :

1. ✘ Barhut  
برہوت

2. ✔ Sanchi  
سانچی

3. ✘ Sarnath  
سارناٹھ

Taxila

تکشا

4. ✘

Question Number : 33 Question Id : 7646925152 Question Type : MCQ Option Shuffling : Yes Is Question Mandatory : No Calculator : None Response Time : N.A Think Time : N.A Minimum Instruction Time : 0 Correct Marks : 1 Wrong Marks : 0.25

By what name were the caste associations during the Kakatiya period called?

కాకతీయుల కాలంలో కుల సంఘాలను ఏ పేరుతో పిలిచేవారు?

Options :

Kula samayas

1. ✓ కుల సమయాలు

Mahajanas

2. ✘ మహాజనాలు

Chaturtha kulajas

3. ✘ చతుర్థ కులజాలు

Srenis

4. ✘ శ్రేణులు

Question Number : 33 Question Id : 7646925152 Question Type : MCQ Option Shuffling : Yes Is Question Mandatory : No Calculator : None Response Time : N.A Think Time : N.A Minimum Instruction Time : 0 Correct Marks : 1 Wrong Marks : 0.25

By what name were the caste associations during the Kakatiya period called?

కాకతీయ దురముల డాత పాత కి అఱుఱునల కు కుస నామ సె పకారాఱాఱాతాతూ?

Options :

Kula samayas

1. ✓ కుల సమయాలు

Mahajanas

2. ✘ మహాజనాలు



Chaturtha kulajas

3. ✘ چترتھا کلاجا

Srenis

4. ✘ شرینی

Question Number : 34 Question Id : 7646925153 Question Type : MCQ Option Shuffling : Yes Is Question Mandatory : No Calculator : None Response Time : N.A Think Time : N.A Minimum Instruction Time : 0 Correct Marks : 1 Wrong Marks : 0.25

Which of the following Indian Space plans for near future are correct?

కింది వానిలో సమీప భవిష్యత్తు కోసం భారతీయ అంతరిక్ష ప్రణాళికల్లో సరైనవి ఏవి?

- A) Shukrayaan I to be launched in 2024  
శుక్రయాన్ I 2024లో ప్రారంభించబడుతుంది
- B) Gaganyaan 3 will be the crewed spacecraft to go into space in 2025  
గగన్యాన్ 3 2025లో సిబ్బందితో వెళ్ళే అంతరిక్ష నౌక
- C) NISAR for remote sensing to be launched in 2024  
రిమోట్ సెన్సింగ్ కోసం NISAR 2024లో ప్రారంభించబడుతుంది
- D) Mangalyaan 2 will also be an orbiter mission only  
మంగళయాన్ 2 కూడా ఆర్బిటర్ మిషన్ మాత్రమే

Options :

A only

1. ✘ A మాత్రమే

A, C & D only

2. ✘ A, C & D మాత్రమే

3. ✓ A, B, C & D

B, C & D only

4. ✘ B, C & D మాత్రమే

Question Number : 34 Question Id : 7646925153 Question Type : MCQ Option Shuffling : Yes Is Question Mandatory : No Calculator : None Response Time : N.A Think Time : N.A Minimum Instruction Time : 0 Correct Marks : 1 Wrong Marks : 0.25

Which of the following Indian Space plans for near future are correct

مندرجہ ذیل میں مستقبل قریب کے لئے ہندوستانی خلائی منصوبے جو درست ہیں

A) Shukrayaan I to be launched in 2024

شکریان I کا آغاز 2024 میں ہوگا

B) Gaganyaan 3 will be the crewed spacecraft to go into space in 2025

گگن یان 3 میں عملہ کے ساتھ جانے والا خلائی جہاز

C) NISAR for remote sensing to be launched in 2024.

ریوٹ سننگ کے لئے این آئی ایس اے آر کا آغاز 2024 میں ہوگا

D) Mangalyaan 2 will also be an orbiter mission only.

منگیان 2 بھی صرف آر بیٹر مشن ہے۔

Options :

Only A

1. ✘ صرف A

Only A, C & D

2. ✘ صرف A, C اور D

A, B, C & D

3. ✔ صرف A, B, C اور D

Only B, C & D

4. ✘ صرف B, C اور D

Question Number : 35 Question Id : 7646925154 Question Type : MCQ Option Shuffling : Yes Is Question Mandatory : No Calculator : None Response Time : N.A Think Time : N.A Minimum Instruction Time : 0 Correct Marks : 1 Wrong Marks : 0.25

The Indian Antarctic Programme is bound by the rules of the Antarctic Treaty System, which India signed in

بھارتی انٹارکٹک پروگرام اس کے تحت ہے جو انٹارکٹک معاہدے کے تحت ہے جسے انڈیا نے

Options :

1. ✘ 1989

2. ✔ 1983

3. ✘ 1998

4. ✘ 2005

**Question Number : 35 Question Id : 7646925154 Question Type : MCQ Option Shuffling : Yes Is Question Mandatory : No Calculator : None Response Time : N.A Think Time : N.A Minimum Instruction Time : 0 Correct Marks : 1 Wrong Marks : 0.25**

The Indian Antarctic Programme is bound by the rules of the Antarctic Treaty System, which India signed in

ہندوستان کی جانب سے جاریہ سال دستخط کئے گئے انٹارکٹک معاہدہ نظام کے اصولوں کا پابند ہندوستانی آرکٹک پروگرام ہے۔

**Options :**

1. ✘ 1989

2. ✔ 1983

3. ✘ 1998

4. ✘ 2005

**Question Number : 36 Question Id : 7646925155 Question Type : MCQ Option Shuffling : Yes Is Question Mandatory : No Calculator : None Response Time : N.A Think Time : N.A Minimum Instruction Time : 0 Correct Marks : 1 Wrong Marks : 0.25**

The images released by ISRO and NRSA of Joshimath, a town in Uttarakhand shown as sinking are taken by the satellite

ఉత్తరాఖండ్ లోని జోషిమత్ పట్టణం మునిగిపోతున్నట్లు చూపబడిన ISRO మరియు NRSA విడుదల చేసిన చిత్రాలను తీసిన ఉపగ్రహం

**Options :**

1. ✔ CARTOSAT – 2S

2. ✘ INSAT – 3D

3. ✘ GSAT - 2

4. ✘ RISAT - 1A

Question Number : 36 Question Id : 7646925155 Question Type : MCQ Option Shuffling : Yes Is Question Mandatory : No Calculator : None Response Time : N.A Think Time : N.A Minimum Instruction Time : 0 Correct Marks : 1 Wrong Marks : 0.25

The images released by ISRO and NRSA of Joshimath, a town in Uttarakhand shown as sinking are taken by the satellite

اتراکھنڈ کے ایک قصبے کو ڈوبتا ہوا دکھایا گیا جوشی مٹھ کی اسرو اور این آرایس اے کے ذریعے جاری کی گئی تصاویر کس سیٹلائٹ کے ذریعے لی گئی ہیں۔

Options :

1. ✔ CARTOSAT - 2S

2. ✘ INSAT - 3D

3. ✘ GSAT - 2

4. ✘ RISAT - 1A

Question Number : 37 Question Id : 7646925156 Question Type : MCQ Option Shuffling : Yes Is Question Mandatory : No Calculator : None Response Time : N.A Think Time : N.A Minimum Instruction Time : 0 Correct Marks : 1 Wrong Marks : 0.25

Match the following relating to World Food Day

ప్రపంచ ఆహార దినోత్సవానికి సంబంధించి కింది వాటిని జతపరచండి

- |         |  |
|---------|--|
| A) 2023 | i) Leave NO ONE behind<br>లీవ్ నో వన్ బిహైండ్                                |
| B) 2022 | ii) Safe food now for a healthy tomorrow<br>సేఫ్ ఫుడ్ నౌ ఫర్ ఏ హెల్త్ టుమారో |
| C) 2021 | iii) Grow, Nourish, Sustain. Together<br>గ్రో, నరీష్, సస్టెయిన్, టుగెదర్     |
| D) 2020 | iv) Food standards save lives<br>ఫుడ్ స్టాండర్డ్స్ సేవ్ లైవ్స్               |

Options :

1. ✘ A- iii, B-ii, C-iv, D-i
2. ✔ A- iv, B-i, C-ii, D-iii
3. ✘ A- ii, B-iii, C-i, D-iv
4. ✘ A-i, B-iv, C-iii, D-ii

Question Number : 37 Question Id : 7646925156 Question Type : MCQ Option Shuffling : Yes Is Question Mandatory : No Calculator : None Response Time : N.A Think Time : N.A Minimum Instruction Time : 0 Correct Marks : 1 Wrong Marks : 0.25

Match the following relating to World Food Day

خوراک کے عالمی دن سے متعلق مندرجہ ذیل جوڑوں کو ملائیے

- |         |   |
|---------|---|
| A) 2023 | i) Leave NO ONE behind<br>کوئی پیچھے نہ چھوٹنے پائے                           |
| B) 2022 | ii) Safe food now for a healthy tomorrow<br>صحت مند کل کے لیے محفوظ غذا       |
| C) 2021 | iii) Grow, Nourish, Sustain. Together<br>بڑھو، پروان چڑھو، قائم رہو۔ ایک ساتھ |
| D) 2020 | iv) Food standards save lives<br>خوراک کا معیار زندگیوں بچاتا ہے              |

Options :

1. ✘ A- iii, B-ii, C-iv, D-i
2. ✔ A- iv, B-i, C-ii, D-iii
3. ✘ A- ii, B-iii, C-i, D-iv
4. ✘ A-i, B-iv, C-iii, D-ii



Question Number : 38 Question Id : 7646925157 Question Type : MCQ Option Shuffling : Yes Is Question Mandatory : No Calculator : None Response Time : N.A Think Time : N.A Minimum Instruction Time : 0 Correct Marks : 1 Wrong Marks : 0.25

Identify the correct statements relating to XraySetu

XraySetu కి సంబంధించిన సరైన వ్యాఖ్యలను గుర్తించండి

- A) XraySetu was specifically designed to identify COVID positive patients even from low-resolution Chest X-Ray images sent over Whatsapp  
వాట్సాప్ ద్వారా పంపబడిన తక్కువ రిజల్యూషన్ ఛాతీ ఎక్స్-రే చిత్రాల నుండి కూడా కోవిడ్ పాజిటివ్ రోగులను గుర్తించడానికి XraySetu ప్రత్యేకంగా రూపొందించబడింది.
- B) ARTPARK at IISc Bengaluru has developed this platform  
IISc బెంగళూరులోని ARTPARK ఈ ప్లాట్ ఫారమ్ ను అభివృద్ధి చేసింది
- C) It is an AI driven platform  
ఇది AI ఆధారిత ప్లాట్ ఫారమ్

Options :

1. ✓ A, B & C

A & C only

2. ✗ A & C మాత్రమే

A & B only

3. ✗ A & B మాత్రమే

B & C only

4. ✗ B & C మాత్రమే

Question Number : 38 Question Id : 7646925157 Question Type : MCQ Option Shuffling : Yes Is Question Mandatory : No Calculator : None Response Time : N.A Think Time : N.A Minimum Instruction Time : 0 Correct Marks : 1 Wrong Marks : 0.25

Identify the correct statements relating to XraySetu

ایکسرے سٹیو کے حوالے درست بیانات کی شناخت کیجئے۔

A) XraySetu was specifically designed to identify COVID positive patients even from low-resolution Chest X-Ray images sent over Whatsapp

ایکسرے سٹیو کو خاص طور پر واٹس ایپ پر بھیجی گئی کم ریزولوشن کے سینے کے ایکسرے تصاویر سے بھی کووڈ پازٹیو مریضوں کی شناخت کرنے کے لیے ڈیزائن کیا گیا تھا۔

B) ARTPARK at IISc Bengaluru has developed this platform

آئی آئی ایس سی بنگلور میں اے آر ٹی پارک نے اس پلیٹ فارم کو تیار کیا ہے

C) It is an AI driven platform

یہ مصنوعی ذہانت سے چلنے والا پلیٹ فارم ہے

Options :

A, B & C

1. ✓ C اور B, A

A & C only

2. ✗ صرف A اور C

A & B only

3. ✗ صرف A اور B

B & C only

4. ✗ صرف B اور C

Question Number : 39 Question Id : 7646925158 Question Type : MCQ Option Shuffling : Yes Is Question Mandatory : No Calculator : None Response Time : N.A Think Time : N.A Minimum Instruction Time : 0 Correct Marks : 1 Wrong Marks : 0.25

Identify the blood vessel which carries deoxygenated blood from the following

కింది వాటిలో ఆమ్లజని రహిత రక్తాన్ని తీసుకుపోయే రక్తనాళాన్ని గుర్తించండి.

Options :

1. ✘ Carotid artery  
కెరోటిడ్ ధమని

2. ✘ Renal artery  
పక్క ధమని

3. ✘ Pulmonary vein  
పుప్పస సిర

4. ✔ Pulmonary artery  
పుప్పస ధమని

Question Number : 39 Question Id : 7646925158 Question Type : MCQ Option Shuffling : Yes Is Question Mandatory : No Calculator : None Response Time : N.A Think Time : N.A Minimum Instruction Time : 0 Correct Marks : 1 Wrong Marks : 0.25

Identify the blood vessel which carries deoxygenated blood from the following

مندرجہ ذیل سے آکسیجن سے خالی (deoxygenated) خون کی شریان کی شناخت کریں۔

Options :

1. ✘ Carotid artery  
کیروٹیڈ شریان

2. ✘ Renal artery  
رینال شریان

3. ✘ Pulmonary vein  
پلمونری وریڈ

4. ✔ Pulmonary artery  
پلمونری شریان

Question Number : 40 Question Id : 7646925159 Question Type : MCQ Option Shuffling : Yes Is Question Mandatory : No Calculator : None Response Time : N.A Think Time : N.A Minimum Instruction Time : 0 Correct Marks : 1 Wrong Marks : 0.25

Match the following

జతపరచండి

- |                               |                                   |
|-------------------------------|-----------------------------------|
| A) Retinal<br>రెటినాల్        | i) Rickets<br>రికెట్స్            |
| B) Calciferol<br>కాల్సిఫెరల్  | ii) Glossitis<br>గ్లోసిటిస్       |
| C) Niacin<br>నియాసిన్         | iii) Pellagra<br>పెల్లాగ్రా       |
| D) Riboflavin<br>రైబోఫ్లావిన్ | iv) Xerophthalmia<br>జిరోఫతాల్మియ |

Choose the correct answer:

సరైన సమాధానాన్ని ఎంచుకోండి:

Options :

1. ✓ A-iv, B-i, C-iii, D-ii

2. ✗ A-ii, B-iii, C-iv, D-i

3. ✗ A-iii, B-i, C-iv, D-ii

4. ✗ A-iv, B-iii, C-ii, D-i

Question Number : 40 Question Id : 7646925159 Question Type : MCQ Option Shuffling : Yes Is Question Mandatory : No Calculator : None Response Time : N.A Think Time : N.A Minimum Instruction Time : 0 Correct Marks : 1 Wrong Marks : 0.25

Match the following

مندرجہ ذیل جوڑوں کو ملائیں

- |                               |                                   |
|-------------------------------|-----------------------------------|
| A) Retinal<br>ریٹینال         | i) Rickets<br>ریکٹس               |
| B) Calciferol<br>کیلسیفرول    | ii) Glossitis<br>گلو سیٹیس        |
| C) Niacin<br>نائسن            | iii) Pellagra<br>پیلاگرا          |
| D) Riboflavin<br>رائبو فلیوین | iv) Xerophthalmia<br>زیروف تھلمیا |

Choose the correct answer:

درست جواب کا انتخاب کیجئے :

Options :

1. ✓ A-iv, B-i, C-iii, D-ii
2. ✗ A-ii, B-iii, C-iv, D-i
3. ✗ A-iii, B-i, C-iv, D-ii
4. ✗ A-iv, B-iii, C-ii, D-i

Question Number : 41 Question Id : 7646925160 Question Type : MCQ Option Shuffling : Yes Is Question Mandatory : No Calculator : None Response Time : N.A Think Time : N.A Minimum Instruction Time : 0 Correct Marks : 1 Wrong Marks : 0.25

Which one of the following is a Neurological viral disease?

کیوںدی وائیٹیلو نائیڈی سانبندھ وائرل وائیڈیلنی گورڈیلنچونڈی?

Options :

1. ✓ Viral Encephalitis  
وائرل انسپھالائٹس



Hepatitis B

హెపటైటిస్ B

2. ✘

Systemic lupus erythematosus

3. ✘ సిస్టమిక్ ల్యూపస్ ఎరిథెమాటస్

Severe Acute Respiratory Syndrome

4. ✘ తీవ్ర దీర్ఘ శ్వాస సిండ్రోమ్

Question Number : 41 Question Id : 7646925160 Question Type : MCQ Option Shuffling : Yes Is Question Mandatory : No Calculator : None Response Time : N.A Think Time : N.A Minimum Instruction Time : 0 Correct Marks : 1 Wrong Marks : 0.25

Which one of the following is a Neurological viral disease?

مندرجہ ذیل میں سے کون سی اعصابی وائرل بیماری ہے؟

Options :

Viral Encephalitis

1. ✓ وائرل انیسیفالٹس

Hepatitis B

2. ✘ ہپاٹائٹس بی

Systemic lupus erythematosus

3. ✘ سسٹمک لوپس ایراٹھیمائٹس

Severe Acute Respiratory Syndrome

4. ✘ سیویئر اکیوٹ ریسپیریٹری سنڈروم

Question Number : 42 Question Id : 7646925161 Question Type : MCQ Option Shuffling : Yes Is Question Mandatory : No Calculator : None Response Time : N.A Think Time : N.A Minimum Instruction Time : 0 Correct Marks : 1 Wrong Marks : 0.25

Match the following

జత పరచండి

- |   |  |
|---|--|
| A) Earth Day<br>ఎర్త్ డే  | i. 16 <sup>th</sup> September<br>సెప్టెంబర్ 16 |
| B) Water Day<br>వాటర్ డే  | ii. 22 <sup>nd</sup> April<br>ఏప్రిల్ 22       |
| C) Environment Day<br>ఎన్విరాన్మెంట్ డే                               | iii. 22 <sup>nd</sup> March<br>మార్చి 22       |
| D) Preservation of the Ozone Layer<br>ప్రిసర్వేషన్ ఆఫ్ ది ఓజోన్ లేయర్ | iv. 5 <sup>th</sup> June<br>జూన్ 5             |

Choose the correct answer

సరైన సమాధానాన్ని ఎంచుకోండి

Options :

1. ✘ A-i, B-ii, C-iii, D-iv
2. ✔ A-ii, B-iii, C-iv, D-i
3. ✘ A-iv, B-iii, C-ii, D-i
4. ✘ A-ii, B-iv, C-i, D-iii

Question Number : 42 Question Id : 7646925161 Question Type : MCQ Option Shuffling : Yes Is Question Mandatory : No Calculator : None Response Time : N.A Think Time : N.A Minimum Instruction Time : 0 Correct Marks : 1 Wrong Marks : 0.25

Match the following

ذیل کے جوڑ ملائیے۔

A) Earth Day

یوم ارض

B) Water Day

یوم آب

C) Environment Day

یوم ماحولیات

D) Preservation of the Ozone Layer

اوزون پرت کا تحفظ

i. 16th September

16 ستمبر

ii. 22nd April

22 اپریل

iii. 22nd March

22 مارچ

iv. 5th June

5 جون

Choose the correct answer:

درست جواب کا انتخاب کیجئے:

Options :

A-i, B-ii, C-iii, D-iv

1. ✘

A-ii, B-iii, C-iv, D-i

2. ✔

A-iv, B-iii, C-ii, D-i

3. ✘

A-ii, B-iv, C-i, D-iii

4. ✘

Question Number : 43 Question Id : 7646925162 Question Type : MCQ Option Shuffling : Yes Is Question Mandatory : No Calculator : None Response Time : N.A Think Time : N.A Minimum Instruction Time : 0 Correct Marks : 1 Wrong Marks : 0.25

Who among the following calculated the effect of an increasing concentration of greenhouse gases; and estimated that doubling the concentration of carbon dioxide would increase the global average temperature by 5°C to 6°C, in 1896.

1896లో, పెరుగుతున్న గ్రీన్ హౌస్ వాయువుల ప్రభావాన్ని లెక్కించారు మరియు కార్బన్ డయాక్సైడ్ యొక్క సాంద్రతను రెట్టింపు చేయడం వలన ప్రపంచ సగటు ఉష్ణోగ్రత 5 °C నుండి 6 °C వరకు పెరుగుతుందని అంచనా వేసినవారు

Options :

Henri Moissan

1. ✘ హెన్రీ మోయిసాన్

Svante Arrhenius

2. ✔ స్వంటే అర్హేనియస్

Clemens Winkler

3. ✘ క్లెమెన్స్ వింక్లర్

Walther Flemming

4. ✘ వాల్టర్ ఫ్లెమింగ్

Question Number : 43 Question Id : 7646925162 Question Type : MCQ Option Shuffling : Yes Is Question Mandatory : No Calculator : None Response Time : N.A Think Time : N.A Minimum Instruction Time : 0 Correct Marks : 1 Wrong Marks : 0.25

Who among the following calculated the effect of an increasing concentration of greenhouse gases; and estimated that doubling the concentration of carbon dioxide would increase the global average temperature by 5°C to 6°C, in 1896.

مندرجہ ذیل میں سے کس نے گرین ہاؤس گیسوں کے بڑھتے ہوئے ارتکاز کے اثرات کا حساب لگایا تھا اور 1896 میں اندازہ لگایا گیا کہ کاربن ڈائی آکسائیڈ کے ارتکاز کو دوگنا کرنے سے عالمی اوسط درجہ حرارت میں 5°C سے 6°C ڈگری سیلسیٹس کا بڑھنے کا اندازہ لگایا تھا۔

Options :

Henri Moissan

1. ✘ ہنری موئسسان

Svante Arrhenius

2. ✓ سوانت آرينيوس

Clemens Winkler

3. ✘ كليمينز وينكلر

Walther Flemming

4. ✘ والتر فليمينگ

Question Number : 44 Question Id : 7646925163 Question Type : MCQ Option Shuffling : Yes Is Question Mandatory : No Calculator : None Response Time : N.A Think Time : N.A Minimum Instruction Time : 0 Correct Marks : 1 Wrong Marks : 0.25

2030 Agenda for Sustainable Development was adopted with goals, agenda and indicators at the UN Sustainable Summit in September, 2015 at New York. The Summit identified

2015 సెప్టెంబర్ లో న్యూ యార్క్ లో జరిగిన ఐక్య రాజ్య సమితి సుస్థిర అభివృద్ధి శిఖర సమ్మేళనంలో లక్ష్యాలు, ఎజెండా, సూచికలతో 2030 ఎజెండాను ఆమోదించారు. ఈ శిఖరాగ్ర సమావేశంలో గుర్తించినవి

Options :

17 Goals, 169 targets and 232 indicators

1. ✓ 17 గమ్యాలు, 169 లక్ష్యాలు మరియు 232 సూచికలు

17 Goals, 169 targets and 132 indicators

2. ✘ 17 గమ్యాలు, 169 లక్ష్యాలు మరియు 132 సూచికలు

17 Goals, 169 targets and 323 indicators

3. ✘ 17 గమ్యాలు, 169 లక్ష్యాలు మరియు 323 సూచికలు

17 Goals, 191 targets and 232 indicators

4. ✘ 17 గమ్యాలు, 191 లక్ష్యాలు మరియు 232 సూచికలు

Question Number : 44 Question Id : 7646925163 Question Type : MCQ Option Shuffling : Yes Is Question Mandatory : No Calculator : None Response Time : N.A Think Time : N.A Minimum Instruction Time : 0 Correct Marks : 1 Wrong Marks : 0.25



2030 Agenda for Sustainable Development was adopted with goals, agenda and indicators at the UN Sustainable Summit in September, 2015 at New York. The Summit identified

پائیدار ترقی کے لیے 2030 کا ایجنڈا ستمبر 2015 میں نیویارک میں اقوام متحدہ کے سربراہ اجلاس میں اہداف، ایجنڈا اور اشاریوں کے ساتھ منظور کیا گیا تھا۔ اس سربراہ اجلاس نے شناخت کیے:

**Options :**

17 Goals, 169 targets and 232 indicators

1. ✓ 17 اہداف، 169 نشانے اور 232 اشاریے

17 Goals, 169 targets and 132 indicators

2. ✗ 17 اہداف، 169 نشانے اور 132 اشاریے

17 Goals, 169 targets and 323 indicators

3. ✗ 17 اہداف، 169 نشانے اور 323 اشاریے

17 Goals, 191 targets and 232 indicators

4. ✗ 17 اہداف، 191 نشانے اور 232 اشاریے

**Question Number : 45 Question Id : 7646925164 Question Type : MCQ Option Shuffling : Yes Is Question Mandatory : No Calculator : None Response Time : N.A Think Time : N.A Minimum Instruction Time : 0 Correct Marks : 1 Wrong Marks : 0.25**

The seismic zoning map of the country classifies the total area of India into four seismic zones. Zone V is seismically the most active region, while zone II is the least. What is the percent of area of the country in different seismic zones

భారతదేశం యొక్క మొత్తం వైశాల్యాన్ని దేశ భూకంప మండలాల పటం నాలుగు భూకంప మండలాలుగా వర్గీకరిస్తుంది. భూకంపపరంగా జోన్ V భూకంప క్రియాశీల ప్రాంతం కాగా, జోన్ II భూకంప క్రియాశీలత తక్కువగా ఉంది. వివిధ భూకంప మండలాలలో దేశం యొక్క వైశాల్యం శాతం ఎంత

**Options :**

~ 20% falls in zone V, ~18% in zone IV, ~ 21% in zone III and remaining in zone II

జోన్ Vలో ~ 20%, జోన్ IVలో ~18%, జోన్ IIIలో ~ 21% మరియు మిగిలినవి జోన్ IIలో

1. ✗

~ 10% falls in zone V, ~25% in zone IV, ~ 24% in zone III and remaining in zone II

జోన్ Vలో ~ 10%, జోన్ IVలో ~25%, జోన్ IIIలో ~ 24% మరియు మిగిలినవి జోన్ IIలో

2. ✘

~ 11% falls in zone V, ~18% in zone IV, ~ 30% in zone III and remaining in zone II

జోన్ Vలో ~ 11%, జోన్ IVలో ~18%, జోన్ IIIలో ~ 30% మరియు మిగిలినవి జోన్ IIలో

3. ✔

~ 19% falls in zone V, ~15% in zone IV, ~ 25% in zone III and remaining in zone II

జోన్ Vలో ~ 19%, జోన్ IVలో ~15%, జోన్ IIIలో ~ 25% మరియు మిగిలినవి జోన్ IIలో

4. ✘

**Question Number : 45 Question Id : 7646925164 Question Type : MCQ Option Shuffling : Yes Is Question Mandatory : No Calculator : None Response Time : N.A Think Time : N.A Minimum Instruction Time : 0 Correct Marks : 1 Wrong Marks : 0.25**

The seismic zoning map of the country classifies the total area of India into four seismic zones. Zone V is seismically the most active region, while zone II is the least.

What is the percent of area of the country in different seismic zones ?

ملک کے زلزلے کے زوننگ نقشے میں بھارت کے کل علاقے کو چار زلزلے والے علاقوں میں درجہ بندی کی گئی ہے۔ زون V زلزلے کے لحاظ سے سب سے زیادہ فعال خطہ ہے جب کہ زون II سب سے کم فعال ہے۔ مختلف زلزلہ کے زونوں میں ملک کے رقبے کا فیصد کیا ہے؟

**Options :**

~ 20% falls in zone V, ~18% in zone IV, ~ 21% in zone III and remaining in zone II

1. ✘ ~20% زون V میں آتا ہے، ~18% زون IV میں، ~21% زون III میں اور باقی زون II میں

~ 10% falls in zone V, ~25% in zone IV, ~ 24% in zone III and remaining in zone II

2. ✘ ~10% زون V میں آتا ہے، ~25% زون IV میں، ~24% زون III میں اور باقی زون II میں

~ 11% falls in zone V, ~18% in zone IV, ~ 30% in zone III and remaining in zone II

3. ✓ 11% زون V میں آتا ہے، ~18% زون IV میں، ~30% زون III میں اور باقی زون II میں

~ 19% falls in zone V, ~15% in zone IV, ~ 25% in zone III and remaining in zone II

4. ✗ 19% زون V میں آتا ہے، ~15% زون IV میں، ~25% زون III میں اور باقی زون II میں

Question Number : 46 Question Id : 7646925165 Question Type : MCQ Option Shuffling : Yes Is Question Mandatory : No Calculator : None Response Time : N.A Think Time : N.A Minimum Instruction Time : 0 Correct Marks : 1 Wrong Marks : 0.25

The Core services of 'The Climate Technology Centre and Network'

'دی کلیمےٹ ٹیکنالوجی سینٹر اینڈ نیٹ ورک' యొక్క ప్రధాన సేవలు

- A) providing technical assistance to developing countries  
అభివృద్ధి చెందుతున్న దేశాలకు సాంకేతిక సహాయం అందించడం
- B) creating access to knowledge on climate technologies  
వాతావరణ సాంకేతికతలపై జ్ఞానానికి ప్రాప్యతను సృష్టించడం
- C) fostering collaboration among climate technology stakeholders  
వాతావరణ సాంకేతిక పరిజ్ఞానంలోని వాటాదారుల మధ్య సహకారాన్ని ప్రోత్సహించడం

Choose the correct answer

సరైన సమాధానాన్ని ఎంచుకోండి

Options :

A & B only

1. ✗ A & B మాత్రమే

B & C only

2. ✗ B & C మాత్రమే

A & C only

3. ✗ A & C మాత్రమే

4. ✓ A, B & C

Question Number : 46 Question Id : 7646925165 Question Type : MCQ Option Shuffling : Yes Is Question Mandatory : No Calculator : None Response Time : N.A Think Time : N.A Minimum Instruction Time : 0



Correct Marks : 1 Wrong Marks : 0.25

The Core services of 'The Climate Technology Centre and Network'

دی کلائمٹ ٹیکنالوجی سینٹر اور نیٹ ورک کی اہم خدمات ہیں

A) providing technical assistance to developing countries

ترقی پذیر ممالک کو تکنیکی معاونت فراہم کرنا

B) creating access to knowledge on climate technologies

آب و ہوا کی ٹکنالوجیوں کے بارے میں معلومات تک رسائی پیدا کرنا

C) fostering collaboration among climate technology stakeholders

آب و ہوا ٹیکنالوجی کے اسٹیک ہولڈرز کے درمیان تعاون کو فروغ دینا

Choose the correct answer:

درست جواب کا انتخاب کیجئے:

Options :

A & B only

1. ✘ صرف A اور B

B & C only

2. ✘ صرف B اور C

A & C only

3. ✘ صرف A اور C

A, B & C

4. ✔ C اور B, A

Question Number : 47 Question Id : 7646925166 Question Type : MCQ Option Shuffling : Yes Is Question Mandatory : No Calculator : None Response Time : N.A Think Time : N.A Minimum Instruction Time : 0 Correct Marks : 1 Wrong Marks : 0.25

How many Eco-Sensitive Zones are notified by MoEF &CC, Govt of India in the 13 States of Indian Himalayan Region as in March, 2023?

مارچ، 2023ء کی حالت میں 13 ریاستوں میں MoEF &CC، حکومت ہند نے کتنے ایسی ایسی زونوں کو مطلع کیا ہے؟

Options :

1. ✘ 63
2. ✘ 47
3. ✔ 92
4. ✘ 75

Question Number : 47 Question Id : 7646925166 Question Type : MCQ Option Shuffling : Yes Is Question Mandatory : No Calculator : None Response Time : N.A Think Time : N.A Minimum Instruction Time : 0 Correct Marks : 1 Wrong Marks : 0.25

How many Eco-Sensitive Zones are notified by MoEF&CC, Govt of India in the 13 States of Indian Himalayan Region as in March, 2023?

مارچ 2023 تک ہندوستانی ہمالیائی علاقے کے 13 ریاستوں میں MoEF&CC، ہندوستانی حکومت کے ذریعہ کتنے ایکوسینسٹیو زونس کو نوٹیفائی کیا گیا۔

Options :

1. ✘ 63
2. ✘ 47
3. ✔ 92
4. ✘ 75

Question Number : 48 Question Id : 7646925167 Question Type : MCQ Option Shuffling : Yes Is Question Mandatory : No Calculator : None Response Time : N.A Think Time : N.A Minimum Instruction Time : 0 Correct Marks : 1 Wrong Marks : 0.25

In 2020, under the Sendai Framework (from reports of the 80 countries), the disaster-related mortality rate was -----persons per 100,000 population, and resulting from disasters of all origins, including COVID-19.

2020 లో, సెండామ్ చట్రం కింద (80 దేశాల నివేదికల నుండి), COVID-19 తో సహా అన్ని రకాల విపత్తుల ఫలితంగా విపత్తు సంబంధిత మరణాల రేటు 100,000 జనాభాకు -----వ్యక్తులు

Options :



1. ✓ 5.74

2. ✗ 12.74

3. ✗ 15.00

4. ✗ 9.25

**Question Number : 48 Question Id : 7646925167 Question Type : MCQ Option Shuffling : Yes Is Question Mandatory : No Calculator : None Response Time : N.A Think Time : N.A Minimum Instruction Time : 0 Correct Marks : 1 Wrong Marks : 0.25**

In 2020, under the Sendai Framework (from reports of the 80 countries), the disaster-related mortality rate was -----persons per 100,000 population, and resulting from disasters of all origins, including COVID-19.

2020 میں سینڈائی فریم ورک ( 80 ممالک سے رپورٹیں ) کے تحت آفات سے متعلق اموات کی شرح فی 100,000 آبادی ————— افراد تھی، اور اس کے اسباب کوویڈ-19 سمیت تمام اقسام کی آفات کا احاطہ کرتے ہیں۔

**Options :**

1. ✓ 5.74

2. ✗ 12.74

3. ✗ 15.00

4. ✗ 9.25

**Question Number : 49 Question Id : 7646925168 Question Type : MCQ Option Shuffling : Yes Is Question Mandatory : No Calculator : None Response Time : N.A Think Time : N.A Minimum Instruction Time : 0 Correct Marks : 1 Wrong Marks : 0.25**

As referred in Swachh Bharat Mission, to avoid littering and to ensure that streets and public places are not littered with waste, litter bins may be provided at important streets, markets, public places, tourist spots. These bins should be placed at optimum distance of

స్వచ్ఛ భారత్ మిషన్‌లో సూచించిన విధంగా, చెత్తను వేయకుండా మరియు వీధులు మరియు బహిరంగ ప్రదేశాల్లో చెత్త వేయకుండా చూసేందుకు, ముఖ్యమైన వీధులు, మార్కెట్లు, బహిరంగ ప్రదేశాలు, పర్యాటక ప్రదేశాలలో చెత్త డబ్బాలను అందించవచ్చు. ఈ డబ్బాలను ఉంచాల్సిన వాంఛనీయ దూరం

Options :

25m to 250m

25మీ నుండి 250మీ

1. ✓

125m to 250m

125మీ నుండి 250మీ

2. ✘

250m to 500m

250మీ నుండి 500మీ

3. ✘

500m to 750m

500మీ నుండి 750మీ

4. ✘

Question Number : 49 Question Id : 7646925168 Question Type : MCQ Option Shuffling : Yes Is Question Mandatory : No Calculator : None Response Time : N.A Think Time : N.A Minimum Instruction Time : 0 Correct Marks : 1 Wrong Marks : 0.25

As referred in Swachh Bharat Mission, to avoid littering and to ensure that streets and public places are not littered with waste, litter bins may be provided at important streets, markets, public places, tourist spots. These bins should be placed at optimum distance of

سوچھ بھارت مشن میں ذکر کیا گیا ہے کہ کوڑا کرکٹ پھیلانے سے بچنے اور اس بات کو یقینی بنانے کے لیے کہ گلیوں اور عوامی مقامات پر کچرے کیڈھیر نہ ہوں، اہم سڑکوں، بازاروں، عوامی مقامات، سیاحتی مقامات پر کوڑے دان فراہم کیے جائیں۔ ان کوڑے دانوں کو زیادہ سے زیادہ کتنے فاصلے پر رکھا جانا چاہیے۔

Options :

25m to 250m

1. ✓ 25 میٹر سے 250 میٹر

125m to 250m

2. ✘ 125 میٹر سے 250 میٹر

250m to 500m

3. ✘ 250 میٹر سے 500 میٹر

500m to 750m

4. ✘ 500 میٹر سے 750 میٹر

Question Number : 50 Question Id : 7646925169 Question Type : MCQ Option Shuffling : Yes Is Question Mandatory : No Calculator : None Response Time : N.A Think Time : N.A Minimum Instruction Time : 0 Correct Marks : 1 Wrong Marks : 0.25

Who among the following was a member of Constituent Assembly of India?

ఈ కింది వారిలో భారత రాజ్యాంగ పరిషత్ సభ్యురాలుగా ఉండిన వారు ఎవరు?

Options :

Begum Aizaz Rasul

1. ✓ బేగం ఐజాజ్ రసూల్

Amrita Preetham

2. ✘ అమృత ప్రీతం

Kausar Jabeen

3. ✘ కౌసర్ జబీన్

Adilakshmi Ranganathan

4. ✘ ఆదిలక్ష్మి రంగనాథన్

Question Number : 50 Question Id : 7646925169 Question Type : MCQ Option Shuffling : Yes Is Question Mandatory : No Calculator : None Response Time : N.A Think Time : N.A Minimum Instruction Time : 0 Correct Marks : 1 Wrong Marks : 0.25

Who among the following was a member of Constituent Assembly of India?

مندرجہ ذیل میں سے کون سی خاتون بھارت کی دستور ساز اسمبلی کی رکن تھیں؟

Options :

Begum Aizaz Rasul

1. ✓ بیگم اعجاز رسول

Amrita Preetham

2. ✗ امرتا پریتم

Kausar Jabeen

3. ✗ کوشربین

Adilakshmi Ranganathan

4. ✗ آدی لکشمی رنگنا تھن

Question Number : 51 Question Id : 7646925170 Question Type : MCQ Option Shuffling : Yes Is Question Mandatory : No Calculator : None Response Time : N.A Think Time : N.A Minimum Instruction Time : 0 Correct Marks : 1 Wrong Marks : 0.25

Consider the following in relation to the Dowry Prohibition Act, 1961:

వరకట్ట నిషేధ చట్టం, 1961కి సంబంధించి ఈ కింది వాటిని పరిగణించండి:

A) 'Dowry' means any property or valuable security given or agreed to be given either directly or indirectly.

'వరకట్టం' అంటే ఏదైనా ఆస్తి లేదా విలువైన సెక్యూరిటీని ప్రత్యక్షంగా లేదా పరోక్షంగా ఇవ్వడానికి అంగీకరించడం.

B) Giving or taking of dowry, shall be punishable with imprisonment for a term not be less than four years.

కట్టం ఇవ్వడం లేదా తీసుకోవడం చేస్తే, నాలుగు సంవత్సరాల కంటే తక్కువ కాకుండా జైలు శిక్ష విధించబడుతుంది.

C) The fine which shall not be less than ₹ 15,000/- or the amount of the value of such dowry, whichever is more.

జరిమానా ₹ 15,000/- కంటే తక్కువ కాకుండా లేదా అటువంటి కట్టం విలువ మొత్తంలో ఏది ఎక్కువ అయితే అది.

D) Penalty for demanding dowry shall be imprisonment for a term not be less than six months but which may extend to two years.

వరకట్టం డిమాండ్ చేసినందుకు జరిమానా ఆరు నెలల కంటే తక్కువ కాకుండా రెండు సంవత్సరాల వరకు పొడిగించబడే జైలు శిక్ష.

Choose the correct answer:

సరైన సమాధానాన్ని ఎంచుకోండి:

Options :

1. ✘ A, B, C & D

A, B & C only

2. ✘ A, B & C మాత్రమే

A, C & D only

3. ✔ A, C & D మాత్రమే

B, C & D only

4. ✘ B, C & D మాత్రమే

Question Number : 51 Question Id : 7646925170 Question Type : MCQ Option Shuffling : Yes Is Question Mandatory : No Calculator : None Response Time : N.A Think Time : N.A Minimum Instruction Time : 0 Correct Marks : 1 Wrong Marks : 0.25



Consider the following in relation to the Dowry Prohibition Act, 1961:

قانون جہیز امتناع، 1961 کے حوالے سے مندرجہ ذیل پر غور کیجئے:

A) 'Dowry' means any property or valuable security given or agreed to be given either directly or indirectly.

جہیز سے مراد ایسی کوئی بھی املاک یا قدر کی حامل ضمانت ہے جو براہ راست یا بالواسطہ طور پر دی گئی ہو یا دینے پر رضامندی ظاہر کی گئی ہو۔

B) Giving or taking of dowry, shall be punishable with imprisonment for a term not be less than four years.

جہیز دینے یا لینے پر کم از کم چار سال قید کی سزا ہوگی۔

C) The fine which shall not be less than ₹ 15,000/- or the amount of the value of such dowry, whichever is more.

جرمانہ جو 15,000 روپے سے کم نہیں ہوگا یا اس طرح کے جہیز کی قیمت کی رقم، جو بھی زیادہ ہو۔

D) Penalty for demanding dowry shall be imprisonment for a term not be less than six months but which may extend to two years.

جہیز کا مطالبہ کرنے پر کم از کم چھ ماہ قید کی سزا ہوگی جو دو سال تک بڑھ سکتی ہے۔

Choose the correct answer:

درست جواب کا انتخاب کیجئے:

Options :

A, B, C & D

1. ✘ D اور C, B, A

A, B & C only

2. ✘ صرف A, B اور C

A, C & D only

3. ✔ صرف A, C اور D

B, C & D only

D اور C, B صرف

4. ✘

Question Number : 52 Question Id : 7646925171 Question Type : MCQ Option Shuffling : Yes Is Question Mandatory : No Calculator : None Response Time : N.A Think Time : N.A Minimum Instruction Time : 0 Correct Marks : 1 Wrong Marks : 0.25

Arrange the following categories of beneficiaries of Telangana Government's overseas scholarships since the launch till January 2023, in the descending order:

ప్రారంభించినప్పటి నుండి జనవరి 2023 వరకు తెలంగాణ ప్రభుత్వ విదేశీ స్కాలర్‌షిప్ పథకంలో లబ్ధి పొందిన కింది వర్గాలను అవరోహణ క్రమంలో అమర్చండి:

A) Students of Scheduled Castes

షెడ్యూల్డ్ కులాల విద్యార్థులు

B) Students of Backward Classes

వెనుకబడిన తరగతుల విద్యార్థులు

C) Students of Scheduled Tribes

షెడ్యూల్డ్ తెగల విద్యార్థులు

D) Students of Minorities

మైనారిటీల విద్యార్థులు

Choose the correct answer:

సరైన సమాధానం ఎంచుకోండి:

Options :

1. ✘ B, A, D, C

2. ✘ A, B, D, C

3. ✘ D, A, B, C

4. ✔ B, D, A, C

Question Number : 52 Question Id : 7646925171 Question Type : MCQ Option Shuffling : Yes Is Question Mandatory : No Calculator : None Response Time : N.A Think Time : N.A Minimum Instruction Time : 0 Correct Marks : 1 Wrong Marks : 0.25

Arrange the following categories of beneficiaries of Telangana Government's overseas scholarships since the launch till January 2023, in the descending order:

آغاز سے جنوری 2023 تک حکومت تلنگانہ کی جانب سے غیر ملکی اسکالرشپ اسکیم کے تحت فائدہ حاصل کرنے والے حسب ذیل زمروں کو نزولی ترتیب دیجئے۔

A) Students of Scheduled Castes

درج فہرست ذاتوں کے طلبہ

B) Students of Backward Classes

پسماندہ طبقات کے طلبہ

C) Students of Scheduled Tribes

درج فہرست قبائل کے طلبہ

D) Students of Minorities

اقلیتی طلبہ

Choose the correct answer:

درست جواب کا انتخاب کیجئے :

Options :

1. ✘ B, A, D, C

2. ✘ A, B, D, C

3. ✘ D, A, B, C

4. ✔ B, D, A, C

Question Number : 53 Question Id : 7646925172 Question Type : MCQ Option Shuffling : Yes Is Question Mandatory : No Calculator : None Response Time : N.A Think Time : N.A Minimum Instruction Time : 0 Correct Marks : 1 Wrong Marks : 0.25

Who among the following got the 'Padma Shri' award from Telangana state for their contribution to Arts in the year 2022?

తెలంగాణ రాష్ట్రం నుండి ఈ కింది వారిలో ఎవరు కళలకు చేసిన కృషికి గాను 2022లో 'పద్మశ్రీ' అవార్డును పొందారు?

- A) Darshanam Moglaiah  
దర్శనం మొగిలయ్య
- B) Krishna Ella and Suchitra Ella  
కృష్ణ ఎల్లా, సుచిత్ర ఎల్లా
- C) Gaddam Padmaja Reddy  
గడ్డం పద్మజా రెడ్డి
- D) Ramachandraiah  
రామచంద్రయ్య

Choose the correct answer:

సరైన సమాధానాన్ని ఎంచుకోండి:

Options :

- A, B & C only
- 1. ✘ A, B & C మాత్రమే
- A, C & D only
- 2. ✔ A, C & D మాత్రమే
- A & D only
- A & D మాత్రమే
- 3. ✘
- C & D only
- C & D మాత్రమే
- 4. ✘

Question Number : 53 Question Id : 7646925172 Question Type : MCQ Option Shuffling : Yes Is Question Mandatory : No Calculator : None Response Time : N.A Think Time : N.A Minimum Instruction Time : 0 Correct Marks : 1 Wrong Marks : 0.25

Who among the following got the 'Padma Shri' award from Telangana state for their contribution to Arts in the year 2022?

سال 2022 میں فنون لطیفہ میں اپنی خدمات کے لیے ریاست تلنگانہ سے مندرجہ ذیل میں سے کس کو پدم شری ایوارڈ ملا؟

A) Darshanam Moglaiah

درشنم موگلیا

B) Krishna Ella and Suchitra Ella

کرشنا ایلا اور سچترا ایلا

C) Gaddam Padmaja Reddy

گڈم پدمجاریڈی

D) Ramachandraiah

رام چندریا

Choose the correct answer:

درست جواب کا انتخاب کیجئے:

Options :

A, B & C only

1. ✘ صرف A, B اور C

A, C & D only

2. ✔ صرف A, C اور D

A & D only

3. ✘ صرف A اور D

C & D only

4. ✘ صرف C اور D

Question Number : 54 Question Id : 7646925173 Question Type : MCQ Option Shuffling : Yes Is Question Mandatory : No Calculator : None Response Time : N.A Think Time : N.A Minimum Instruction Time : 0 Correct Marks : 1 Wrong Marks : 0.25



Which of the following is NOT a component of natural farming?

కింది వానిలో ఏది సహజ వ్యవసాయంలో భాగం కాదు?

Options :

Mulching

1. ✘ మల్చింగ్

Whapasa

2. ✘ వాపస

Jivamrit

3. ✘ జీవామృత్

Kshiramrit

4. ✔ క్షీరామృత్

Question Number : 54 Question Id : 7646925173 Question Type : MCQ Option Shuffling : Yes Is Question Mandatory : No Calculator : None Response Time : N.A Think Time : N.A Minimum Instruction Time : 0 Correct Marks : 1 Wrong Marks : 0.25

Which of the following is NOT a component of natural farming?

مندرجہ ذیل میں سے کون سا قدرتی کاشتکاری کا حصہ نہیں ہے؟

Options :

Mulching

1. ✘ ملچنگ

Whapasa

2. ✘ واپسا

Jivamrit

3. ✘ جیوامرت

Kshiramrit

4. ✔ کشیرامرت

Question Number : 55 Question Id : 7646925174 Question Type : MCQ Option Shuffling : Yes Is Question Mandatory : No Calculator : None Response Time : N.A Think Time : N.A Minimum Instruction Time : 0 Correct Marks : 1 Wrong Marks : 0.25

Which one of the following is NOT a part of three 'Cs' approach of Aspirational District Programme?

కింది వాటిలో ఏది ఆస్పిరేషనల్ జిల్లా కార్యక్రమమునకు సంబంధించిన మూడు 'Cల' విధానంలో భాగం కానిది?

Options :

Competition

1. ✘ పోటీ

Collaboration

2. ✘ సహకారం

Convergence

3. ✘ కలయిక

Commitment

4. ✔ నిబద్ధత

Question Number : 55 Question Id : 7646925174 Question Type : MCQ Option Shuffling : Yes Is Question Mandatory : No Calculator : None Response Time : N.A Think Time : N.A Minimum Instruction Time : 0 Correct Marks : 1 Wrong Marks : 0.25

Which one of the following is NOT a part of three 'Cs' approach of Aspirational District Programme?

مندرجہ ذیل میں سے کون سا آپریشنل ڈسٹرکٹ پروگرام سے متعلق تین 'Cs' اپروچ کا حصہ نہیں ہے؟

Options :

Competition

1. ✘ مسابقت

Collaboration

2. ✘ اشتراک

Convergence

3. ✘ 

Commitment

4. ✔ 

Question Number : 56 Question Id : 7646925175 Question Type : MCQ Option Shuffling : Yes Is Question Mandatory : No Calculator : None Response Time : N.A Think Time : N.A Minimum Instruction Time : 0 Correct Marks : 1 Wrong Marks : 0.25

Which of the following statements are **NOT** true in relation to National Multidimensional Poverty Index?

‘నేషనల్ మల్టీ డైమెన్షనల్ పోవర్టీ ఇండెక్స్’ కు సంబంధించి కింది వ్యాఖ్యలలో ఏవి అసత్యం?

A) It is the weighted average of health, education, nutrition and per capita income

ఇది ఆరోగ్యం, విద్య, పౌష్టికం మరియు తలసరి ఆదాయాల భారిత సగటు.

B) The weightage of health dimension is 1/3

ఆరోగ్య అంశం యొక్క భారత్వం 1/3.

C) The weightage of education dimension is 1/4

విద్య యొక్క భారత్వం 1/4.

D) The weightage of per capita income is 1/5

తలసరి ఆదాయం యొక్క భారత్వం 1/5.

Choose the correct answer:

సరైన సమాధానాన్ని ఎంచుకోండి:

Options :

A, C & D only

1. ✔ A, C & D మాత్రమే

B, C & D only

2. ✘ B, C & D మాత్రమే

B & C only

3. ✘ B & C మాత్రమే

A, B & D only

4. ✘ A, B & D మాత్రమే

Question Number : 56 Question Id : 7646925175 Question Type : MCQ Option Shuffling : Yes Is Question Mandatory : No Calculator : None Response Time : N.A Think Time : N.A Minimum Instruction Time : 0 Correct Marks : 1 Wrong Marks : 0.25

Which of the following statements are NOT true in relation to National Multidimensional Poverty Index?

قومی کثیرجہتی غربت کے اشارے کے حوالے سے مندرجہ ذیل میں سے کون سے بیان درست نہیں ہیں؟

A) It is the weighted average of health, education, nutrition and per capita income

یہ صحت، تعلیم، تغذیے اور فی کس آمدنی کا میزانی اوسط (weighted average) ہے۔

B) The weightage of health dimension is 1/3

صحت کی جہت کا میزان 1/3 ہے۔

C) The weightage of education dimension is 1/4

تعلیم کی جہت کا میزان 1/4 ہے۔

D) The weightage of per capita income is 1/5

فی کس آمدنی کا میزان 1/5 ہے۔

Choose the correct answer:

درست جواب کا انتخاب کیجئے:

Options :

A, C & D only

1. ✓ صرف A، C اور D

B, C & D only

2. ✗ صرف B، C اور D

B & C only

3. ✗ صرف B اور C

A, B & D only

4. ✗ صرف A، B اور D

Question Number : 57 Question Id : 7646925176 Question Type : MCQ Option Shuffling : Yes Is Question Mandatory : No Calculator : None Response Time : N.A Think Time : N.A Minimum Instruction Time : 0 Correct Marks : 1 Wrong Marks : 0.25

Arrange in ascending order the FDI inflows into Indian economy in the following years:

కింది సంవత్సరాలలో భారతదేశంలోకి వచ్చిన విదేశీ ప్రత్యక్ష పెట్టుబడులను ఆరోహణ క్రమంలో అమర్చండి:

- A) 2016-17
- B) 2018-19
- C) 2017-18
- D) 2019-20

Choose the correct answer:

సరైన సమాధానాన్ని ఎంచుకోండి:

Options :

- 1. ✘ D, B, C, A
- 2. ✘ A, B, D, C
- 3. ✔ A, C, B, D
- 4. ✘ B, D, C, A

Question Number : 57 Question Id : 7646925176 Question Type : MCQ Option Shuffling : Yes Is Question Mandatory : No Calculator : None Response Time : N.A Think Time : N.A Minimum Instruction Time : 0 Correct Marks : 1 Wrong Marks : 0.25

Arrange in ascending order the FDI inflows into Indian economy in the following years:

مندرجہ ذیل برسوں میں بھارتی معیشت میں ایف ڈی آئی کے بہاؤ کو بڑھتی ہوئی ترتیب میں رکھیں:

- A) 2016-17
- B) 2018-19
- C) 2017-18
- D) 2019-20

Choose the correct answer:

درست جواب کا انتخاب کیجئے:



Options :

1. ✘ D, B, C, A
2. ✘ A, B, D, C
3. ✔ A, C, B, D
4. ✘ B, D, C, A

Question Number : 58 Question Id : 7646925177 Question Type : MCQ Option Shuffling : Yes Is Question Mandatory : No Calculator : None Response Time : N.A Think Time : N.A Minimum Instruction Time : 0 Correct Marks : 1 Wrong Marks : 0.25

Who among the following is considered to have excavated 'Ramappa Lake'?

ఈ కింది వారిలో ఎవరు 'రామప్ప చెరువును' తవ్వించిన వారిగా పరిగణిస్తారు?

Options :

1. ✘ Mailamba  
మైలాంబ
2. ✘ Bayyanna Nayaka  
బయ్యన్న నాయక
3. ✘ Ganapatideva  
గణపతిదేవ
4. ✔ Recharla Rudra  
రేచర్ల రుద్ర

Question Number : 58 Question Id : 7646925177 Question Type : MCQ Option Shuffling : Yes Is Question Mandatory : No Calculator : None Response Time : N.A Think Time : N.A Minimum Instruction Time : 0 Correct Marks : 1 Wrong Marks : 0.25

Who among the following is considered to have excavated 'Ramappa Lake'?

مندرجہ ذیل میں سے کس کو راماپا جھیل کی کھدائی کروانے میں شمار کیا جاتا ہے؟

Options :

Mailamba

1. ✘ می لامبا

Bayyanna Nayaka

2. ✘ بیانا ناکا

Ganapatideva

3. ✘ گنپتی دیوا

Recharla Rudra

4. ✔ ریچارلارودرا

**Question Number : 59 Question Id : 7646925178 Question Type : MCQ Option Shuffling : Yes Is Question Mandatory : No Calculator : None Response Time : N.A Think Time : N.A Minimum Instruction Time : 0 Correct Marks : 1 Wrong Marks : 0.25**

During the Telangana Peasant Struggle, Ilamma revolted against which of the following Deshmukhs?

తెలంగాణ రైతాంగ పోరాటంలో ఈ కింది ఏ దేశముఖ్ కు వ్యతిరేకంగా అయిలమ్మ పోరాటం చేసింది?

**Options :**

Gadwal

1. ✘ గద్వాల

Jangaon

2. ✘ జనగాం

Visnoor

3. ✔ విస్నూర్

Suryapet

4. ✘ సూర్యపేట

**Question Number : 59 Question Id : 7646925178 Question Type : MCQ Option Shuffling : Yes Is Question Mandatory : No Calculator : None Response Time : N.A Think Time : N.A Minimum Instruction Time : 0 Correct Marks : 1 Wrong Marks : 0.25**

During the Telangana Peasant Struggle, Ilamma revolted against which of the following Deshmukhs?

تلنگانہ کسان جدوجہد کے دوران، ایلمانے مندرجہ ذیل دیشمکھوں میں سے کس کے خلاف بغاوت کی؟

Options :

Gadwal

1. ✘ گدوال

Jangaon

2. ✘ جنگاؤں

Visnoor

3. ✔ وینوور

Suryapet

4. ✘ سورپہ پیٹ

Question Number : 60 Question Id : 7646925179 Question Type : MCQ Option Shuffling : Yes Is Question Mandatory : No Calculator : None Response Time : N.A Think Time : N.A Minimum Instruction Time : 0 Correct Marks : 1 Wrong Marks : 0.25

One of the following had been recognised as the first Telugu magazine in the Hyderabad State:

ಈ ಕಿంది ವಾటిలో ఒకటి హైదరాబాద్ రాజ్యంలో తొలి తెలుగు పత్రికగా గుర్తింపు పొందినది:

Options :

Sedhyachandrika

1. ✔ సేధ్యచంద్రిక

Neelagiri

2. ✘ నీలగిరి

Golakonda Patrika

3. ✘ గోలకొండ పత్రిక

Sujatha

4. ✘ సుజాత

Question Number : 60 Question Id : 7646925179 Question Type : MCQ Option Shuffling : Yes Is Question Mandatory : No Calculator : None Response Time : N.A Think Time : N.A Minimum Instruction Time : 0 Correct Marks : 1 Wrong Marks : 0.25

One of the following had been recognised as the first Telugu magazine in the Hyderabad State:

مندرجہ ذیل میں سے کسے ریاست حیدرآباد کے پہلے تیلگو رسالے کے طور پر تسلیم کیا گیا ہے:

Options :

Sedhyachandrika

1. ✓ سیدھیچندریکا

Neelagiri

2. ✘ نیلاگری

Golakonda Patrika

3. ✘ گولکنڈہ پٹریکا

Sujatha

4. ✘ سجاتا

Question Number : 61 Question Id : 7646925180 Question Type : MCQ Option Shuffling : Yes Is Question Mandatory : No Calculator : None Response Time : N.A Think Time : N.A Minimum Instruction Time : 0 Correct Marks : 1 Wrong Marks : 0.25

Consider the following in relation to the UPA Governments official efforts on Telangana issue:

తెలంగాణ అంశంపై యు.పి.ఎ. ప్రభుత్వం అధికారికంగా చేపట్టిన ప్రయత్నాలను పరిగణించండి:

- A) It had included the issue in its Common Minimum Programme.  
అది తన కామన్ మినిమం ప్రోగ్రాములో తెలంగాణ అంశాన్ని చేర్చడం
- B) Appointed the Pranab Mukherjee Committee to seek the opinion of the political parties.  
ఇతర రాజకీయ పార్టీల అభిప్రాయాలను తెలుసుకొనుటకు ప్రణబ్ ముఖర్జీ కమిటీని వేయడం
- C) The Pranab Mukherjee Committee submitted its report.  
ప్రణబ్ ముఖర్జీ కమిటీ తన రిపోర్టును ఇవ్వడం
- D) Placement of the Bill before the parliament with the recommendations of Pranab Mukherjee Committee.  
ప్రణబ్ ముఖర్జీ కమిటీ సిఫారసుల మేరకు పార్లమెంటులో బిల్లును ప్రవేశ పెట్టడం

Choose the right answer:

సరైన సమాధానాన్ని ఎంచుకోండి:

Options :

1. ✓ A & B మాత్రమే
2. ✗ B & C మాత్రమే
3. ✗ A, B & C మాత్రమే
4. ✗ A, B, C & D

Question Number : 61 Question Id : 7646925180 Question Type : MCQ Option Shuffling : Yes Is Question Mandatory : No Calculator : None Response Time : N.A Think Time : N.A Minimum Instruction Time : 0 Correct Marks : 1 Wrong Marks : 0.25



Consider the following in relation to the UPA Governments official efforts on  
Telangana issue:

تلنگانہ کے مسئلہ پر یوپی اے حکومت کی سرکاری کوششوں کے حوالے سے مندرجہ ذیل پر غور کریں:

- A) It had included the issue in its Common Minimum Programme.  
اس نے اس مسئلے کو اپنے کم از کم مشترکہ پروگرام میں شامل کیا تھا۔
- B) Appointed the Pranab Mukherjee Committee to seek the opinion of the political parties.  
سیاسی جماعتوں کی رائے حاصل کرنے کے لیے پرنب مکھرجی کمیٹی تشکیل دی گئی۔
- C) The Pranab Mukherjee Committee submitted its report.  
پرنب مکھرجی کمیٹی نے اپنی رپورٹ پیش کی۔
- D) Placement of the Bill before the parliament with the recommendations of Pranab Mukherjee Committee.  
پرنب مکھرجی کمیٹی کی سفارشات کے ساتھ بل کو پارلیمنٹ کے سامنے پیش کیا گیا۔

Choose the right answer:

درست جواب کا انتخاب کیجئے:

Options :

A & B only

1. ✓ صرف A اور B

B & C only

2. ✗ صرف B اور C

A, B & C only

3. ✗ صرف A, B اور C

A, B, C & D

4. ✗ D اور C, B, A

Question Number : 62 Question Id : 7646925181 Question Type : MCQ Option Shuffling : Yes Is Question Mandatory : No Calculator : None Response Time : N.A Think Time : N.A Minimum Instruction Time : 0 Correct Marks : 1 Wrong Marks : 0.25

Who among the following held the position of 'Diwan' during the Nizams rule?

ఈ కింది వారిలో నైజాముల కాలంలో 'దివాన్' పదవిలో ఉండినవారు ఎవరు?

A) Raja Chandulal

రాజ చందులాల్

B) Siraj-ul-Mulk

సిరాజ్-ఉల్-ముల్క్

C) Turab Ali Khan

తురాబ్ అలీ ఖాన్

D) Munir-ul-Mulk

మునీర్-ఉల్-ముల్క్

Choose the correct answer:

సరైన సమాధానాన్ని ఎంచుకోండి:

Options :

A, B & C only

1. ✘ A, B & C మాత్రమే

A, B & D only

2. ✘ A, B & D మాత్రమే

B, C & D only

3. ✘ B, C & D మాత్రమే

A, B, C & D

4. ✔

Question Number : 62 Question Id : 7646925181 Question Type : MCQ Option Shuffling : Yes Is Question Mandatory : No Calculator : None Response Time : N.A Think Time : N.A Minimum Instruction Time : 0 Correct Marks : 1 Wrong Marks : 0.25

Who among the following held the position of 'Diwan' during the Nizams rule?

نظام کے دور حکومت میں مندرجہ ذیل میں سے کس نے دیوان کا عہدہ سنبھالا تھا؟

A) Raja Chandulal

راجا چندولال

B) Siraj-ul-Mulk

سراج الملک

C) Turab Ali Khan

تراب علی خان

D) Munir-ul-Mulk

منیر الملک

Choose the correct answer:

درست جواب کا انتخاب کیجئے:

Options :

A, B & C only

1. ✘ صرف A, B اور C

A, B & D only

2. ✘ صرف A, B اور D

B, C & D only

3. ✘ صرف B, C اور D

A, B, C & D

4. ✔ D اور C, B, A

Question Number : 63 Question Id : 7646925182 Question Type : MCQ Option Shuffling : Yes Is Question Mandatory : No Calculator : None Response Time : N.A Think Time : N.A Minimum Instruction Time : 0 Correct Marks : 1 Wrong Marks : 0.25

Consider the following in relation to the Girglani Commission Report:

గిర్గ్ లాని కమీషన్ రిపోర్టుకు సంబంధించి ఈ కింది వాటిని పరిగణించండి:

- A) The report was submitted in the year 2000  
ఈ రిపోర్ట్ 2000 సంవత్సరంలో సమర్పించబడినది
- B) The report contained three volumes  
ఈ రిపోర్టు మూడు సంపుటాలు కలిగి ఉన్నది
- C) It reported that the Presidential Orders were violated in 126 ways/methods  
రాష్ట్రపతి ఉత్తర్వులను 126 మార్గాలు/పద్ధతులలో ఉల్లంఘించారని ఇది నివేదించింది

Choose the correct answer:

సరైన సమాధానాన్ని ఎంచుకోండి:

Options :

1. ✘ A, B & C
- A & B only
2. ✘ A & B మాత్రమే
- A & C only
3. ✘ A & C మాత్రమే
- B & C only
4. ✔ B & C మాత్రమే

Question Number : 63 Question Id : 7646925182 Question Type : MCQ Option Shuffling : Yes Is Question Mandatory : No Calculator : None Response Time : N.A Think Time : N.A Minimum Instruction Time : 0 Correct Marks : 1 Wrong Marks : 0.25

Consider the following in relation to the Girglani Commission Report:

گرگلانی کمیشن کی رپورٹ کے حوالے سے مندرجہ ذیل پر غور کریں:

A) The report was submitted in the year 2000

یہ رپورٹ 2000 میں پیش کی گئی

B) The report contained three volumes

رپورٹ تین جلدوں پر مشتمل ہے

C) It reported that the Presidential Orders were violated in 126 ways/methods

اس میں بتایا گیا کہ صدارتی احکامات کی 126 ذرائع طریقوں سے خلاف ورزی ہوئی

Choose the correct answer:

درست جواب کا انتخاب کیجئے:

Options :

A, B & C

1. ✘ C اور B, A

A & B only

2. ✘ B اور A صرف

A & C only

3. ✘ C اور A صرف

B & C only

4. ✔ C اور B صرف

Question Number : 64 Question Id : 7646925183 Question Type : MCQ Option Shuffling : Yes Is Question Mandatory : No Calculator : None Response Time : N.A Think Time : N.A Minimum Instruction Time : 0 Correct Marks : 1 Wrong Marks : 0.25



Match the following Nizam period Telugu newspapers/magazines with their founder/editors:

కింది నిజాం కాలనాటి తెలుగు వార్తాపత్రికలు/పత్రికలను వాటి వ్యవస్థాపకులు/సంపాదకులతో జతపరచండి.

Newspaper/Magazine	Founder/Editor
వార్తాపత్రిక/పత్రిక	వ్యవస్థాపకులడు/సంపాదకుడు
A) Golkonda Patrika గోల్కొండ పత్రిక	i) Pamulaparti Sadasiva Rao పాములపర్తి సదాశివరావు
B) Nilagiri Patrika నీలగిరి పత్రిక	ii) Yellapragada Sitakumari యెల్లాప్రగడ సీతాకుమారి
C) Telangana తెలంగాణ	iii) Shabnavisu Venkatarama Narsimha Rao శబ్దావిసు వెంకటరామ నరసింహ రావు
D) Kakatiya కాకతీయ	iv) Suravaram Pratapa Reddy సురవరం ప్రతాప రెడ్డి
	v) Bukkapatnam Venkataramanujacharyulu బుక్కపట్నం వెంకటరామానుజాచార్యులు

Choose the correct answer:

సరైన సమాధానాన్ని ఎంచుకోండి:

Options :

1. ✓ A-iv; B-iii; C-v; D-i
2. ✗ A-iii; B-i; C-iv; D-ii
3. ✗ A-v; B-ii; C-iii; D-iv
4. ✗ A-ii; B-iv; C-i; D-iii

Question Number : 64 Question Id : 7646925183 Question Type : MCQ Option Shuffling : Yes Is Question Mandatory : No Calculator : None Response Time : N.A Think Time : N.A Minimum Instruction Time : 0 Correct Marks : 1 Wrong Marks : 0.25

Match the following Nizam period Telugu newspapers/magazines with their founder/editors:

مندرجہ ذیل نظام دور کے تیلگو اخبارات/رسائل کو ان کے بانیوں/مدیروں کے ساتھ جوڑیے:

Newspaper/Magazine	Founder/Editor
اخبار/رسالہ	بانی/مدیر
A) Golkonda Patrika گولکنڈہ پتريکا	i) Pamulaparti Sadasiva Rao پامولاپرتی سدا سیوراؤ
B) Nilagiri Patrika نیلگري پتريکا	ii) Yellapragada Sitakumari یلاپراگڈا سیتا کماری
C) Telangana تلنگانہ	iii) Shabnavisu Venkatarama Narsimha Rao شبنا وسو وینکٹا راما نرسمہاراؤ
D) Kakatiya کاکتیه	iv) Suravaram Pratapa Reddy سوراوړم پرتاپ ریڈی
	v) Bukkapatnam Venkataramanujacharyulu بکپٹنم وینکٹا راما نجاچار یولو

Choose the correct answer:

درست جواب کا انتخاب کیجیے:

Options :

1. ✓ A-iv; B-iii; C-v; D-i

2. ✗ A-iii; B-i; C-iv; D-ii

3. ✗ A-v; B-ii; C-iii; D-iv

4. ✗ A-ii; B-iv; C-i; D-iii

Correct Marks : 1 Wrong Marks : 0.25

Arrange the following Qutub Shahi Kings in the chronological order according to their ruling period:

కింది కుతుబ్ షాహీ రాజులను వారి పరిపాలన కాలాన్ని బట్టి క్రమానుగత శ్రేణిలో ఉంచుము:

- A) Abdullah Qutub Shah  
అబ్దుల్ల కుతుబ్ షా
- B) Ibrahim Qutub Shaah  
ఇబ్రహీం కుతుబ్ షా
- C) Jamsheed Qutub Shah  
జంషీద్ కుతుబ్ షా
- D) Mohammad Quli Qutub Shah  
మొహమ్మద్ కులీ కుతుబ్ షా

Chose the correct answer:

సరైన సమాధానాన్ని ఎంచుకోండి:

Options :

- 1. ✓ C, B, D, A
- 2. ✗ B, C, A, D
- 3. ✗ D, C, B, A
- 4. ✗ A, C, D, B

Question Number : 65 Question Id : 7646925184 Question Type : MCQ Option Shuffling : Yes Is Question Mandatory : No Calculator : None Response Time : N.A Think Time : N.A Minimum Instruction Time : 0 Correct Marks : 1 Wrong Marks : 0.25

Arrange the following Qutub Shahi Kings in the chronological order according to their ruling period:

مندرجہ ذیل قطب شاہی بادشاہوں کو ان کے دور حکومت کے مطابق تاریخی ترتیب کے لحاظ سے ترتیب دیجئے:

- A) Abdullah Qutub Shah  
عبداللہ قطب شاہ
- B) Ibrahim Qutub Shaah  
ابراہیم قطب شاہ
- C) Jamsheed Qutub Shah  
جمشید قطب شاہ
- D) Mohammad Quli Qutub Shah  
محمد قلی قطب شاہ

Chose the correct answer:

درست جواب کا انتخاب کیجئے:

Options :

1. ✓ C, B, D, A
2. ✗ B, C, A, D
3. ✗ D, C, B, A
4. ✗ A, C, D, B

Question Number : 66 Question Id : 7646925185 Question Type : MCQ Option Shuffling : Yes Is Question Mandatory : No Calculator : None Response Time : N.A Think Time : N.A Minimum Instruction Time : 0 Correct Marks : 1 Wrong Marks : 0.25



Directions: In this question there is a statement followed by two conclusions A and B. You have to take the given statements to be true even if they seem to be at variance with the commonly known facts. Read all the conclusions and then decide which of the given conclusion(s) logically follow from the statement (s) given in the question.

దిశలు: ఈ ప్రశ్నలో ఒక వ్యాఖ్య మరియు A మరియు B అనే రెండు ముగింపులు వున్నాయి. ఇచ్చిన వ్యాఖ్యలు సాధారణంగా తెలిసిన వాస్తవాలతో విభేదిస్తున్నట్లు కనిపించినప్పటికీ వాటిని నిజం అని తీసుకోవాలి. అన్ని ముగింపులను చదివి, ఆపై ప్రశ్నలో ఇవ్వబడిన వ్యాఖ్య (ల) నుండి తార్కికంగా ఇచ్చిన ముగింపు(ల)లో ఏది అనుసరిస్తుందో నిర్ణయించండి.

STATEMENT: In State Government employees appointed upto 2004 are covered under old Pension Scheme, thereafter New Pension Scheme is introduced.

వ్యాఖ్య: 2004 వరకు నియమితులైన రాష్ట్ర ప్రభుత్వ ఉద్యోగులు పాత పెన్షన్ పథకం కిందకు వస్తారు, ఆ తర్వాత కొత్త పెన్షన్ పథకం ప్రవేశపెట్టబడింది

CONCLUSIONS:

ముగింపులు:

A) There is no old pension scheme in vogue for employees who joined before 2004.

2004కి ముందు చేరిన ఉద్యోగులకు పాత పెన్షన్ స్కీమ్ లేదు.

B) Old pension scheme is financial burden to State government, hence withdrawn for all the employees.

పాత పెన్షన్ పథకం రాష్ట్ర ప్రభుత్వానికి ఆర్థిక భారం, అందువల్ల ఉద్యోగులందరికీ ఉపసంహరించబడింది.

Options :

Only A follows

1. ✘ A మాత్రమే అనుసరిస్తుంది

Neither A nor B follows

2. ✔ A మరియు B రెండు అనుసరించవు

Only B follows

3. ✘ B మాత్రమే అనుసరిస్తుంది

Both A and B follows

4. ✘ A మరియు B రెండు అనుసరిస్తాయి



Correct Marks : 1 Wrong Marks : 0.25

Directions: In this question there is a statement followed by two conclusions A and B. You have to take the given statements to be true even if they seem to be at variance with the commonly known facts. Read all the conclusions and then decide which of the given conclusion(s) logically follow from the statement(s) given in the question.

ہدایات: اس سوال میں ایک بیان اور دو نتائج A اور B ہیں۔ آپ کو دیے گئے بیانات کو درست ماننا ہوگا چاہے وہ عام طور پر معلوم حقائق سے متضاد معلوم ہوں۔ تمام نتائج کو پڑھ کر سوال میں دیے گئے بیان سے منطقی طور پر دیئے گئے نتائج میں کون سا بیرونی کرتا ہے فیصلہ کیجئے۔

STATEMENT: In State Government employees appointed upto 2004 are covered under old Pension Scheme, thereafter New Pension Scheme is introduced.

بیان: 2004 تک تقرر کئے گئے ریاست کے سرکاری ملازمین پرانی پنشن اسکیم کے تحت آتے ہیں، اس کے بعد نئی پنشن اسکیم متعارف کی گئی۔

CONCLUSIONS:

نتائج

- A) There is no old pension scheme in vogue for employees who joined before 2004.  
2004 سے قبل ملازمت حاصل کرنے والوں کو پرانی پنشن اسکیم رائج نہیں ہے۔
- B) Old pension scheme is financial burden to State government, hence withdrawn for all the employees.  
پرانی پنشن اسکیم ریاستی حکومت کے لئے مالی بوجھ ہے، اسی لئے تمام ملازمین کو اس سے مستثنیٰ رکھا گیا۔

Options :

Only A follows

1. ✘ صرف A بیرونی کرتا ہے

Neither A nor B follows

2. ✔ نہ A اور نہ B بیرونی کرتے ہیں

Only B follows

3. ✘ صرف B بیرونی کرتا ہے

Both A and B follows

A اور B دونوں پیروی کرتے ہیں

4. ✘

Question Number : 67 Question Id : 7646925186 Question Type : MCQ Option Shuffling : Yes Is Question Mandatory : No Calculator : None Response Time : N.A Think Time : N.A Minimum Instruction Time : 0 Correct Marks : 1 Wrong Marks : 0.25

If 15.8.1947 was Friday, what day it was 15.8.1957?

15.8.1947 శుక్రవారం అయితే, అది 15.8.1957 ఏ వారం అగును?

Options :

Friday

1. ✘ శుక్రవారం

Monday

2. ✘ సోమవారం

Tuesday

3. ✘ మంగళవారం

Thursday

4. ✔ గురువారం

Question Number : 67 Question Id : 7646925186 Question Type : MCQ Option Shuffling : Yes Is Question Mandatory : No Calculator : None Response Time : N.A Think Time : N.A Minimum Instruction Time : 0 Correct Marks : 1 Wrong Marks : 0.25

If 15.8.1947 is Friday, what day it was 15.8.1957?

اگر 15.8.1947 کو جمعہ تھا تو 15.8.1957 کو کون سا دن تھا؟

Options :

Friday

1. ✘ جمعہ

Monday

2. ✘ پیر

Tuesday

3. ✘ منگل

Thursday

4. ✔ جمعرات

Question Number : 68 Question Id : 7646925187 Question Type : MCQ Option Shuffling : Yes Is Question Mandatory : No Calculator : None Response Time : N.A Think Time : N.A Minimum Instruction Time : 0 Correct Marks : 1 Wrong Marks : 0.25

On a 200 sqm terrace of a house, over a certain period, there was 5 cm uniform rainfall. How much total quantity of rain water (in cubic metres) has been collected in the rain water harvesting pit, attached to the house?

200 చదరపు మీటర్ల ఒక ఇంటి పై కప్పు పై నిర్దిష్ట వ్యవధిలో, ఏకరీతిగా 5 సెం.మీ. వర్షపాతం నమోదైంది. ఆ ఇంటికి జోడించబడిన రెయిన్ వాటర్ హార్వెస్టింగ్ పిట్లో మొత్తం ఎంత వర్షపు నీరు (ఘనపు మీటర్లలో) సేకరించబడింది?

Options :

1. ✔ 10

2. ✘ 15

3. ✘ 12

4. ✘ 5

Question Number : 68 Question Id : 7646925187 Question Type : MCQ Option Shuffling : Yes Is Question Mandatory : No Calculator : None Response Time : N.A Think Time : N.A Minimum Instruction Time : 0 Correct Marks : 1 Wrong Marks : 0.25

On a 200 sqm terrace of a house, over a certain period, there was 5 cm uniform rainfall. How much total quantity of rain water (in cubic metres) has been collected in the rain water harvesting pit, attached to the house?

200 చదరపు మీటర్ల ఒక ఇంటి పై కప్పు పై నిర్దిష్ట వ్యవధిలో, ఏకరీతిగా 5 సెం.మీ. వర్షపాతం నమోదైంది. ఆ ఇంటికి జోడించబడిన రెయిన్ వాటర్ హార్వెస్టింగ్ పిట్లో మొత్తం ఎంత వర్షపు నీరు (ఘనపు మీటర్లలో) సేకరించబడింది?

Options :

1. ✓ 10

2. ✗ 15

3. ✗ 12

4. ✗ 5

**Question Number : 69 Question Id : 7646925188 Question Type : MCQ Option Shuffling : Yes Is Question Mandatory : No Calculator : None Response Time : N.A Think Time : N.A Minimum Instruction Time : 0 Correct Marks : 1 Wrong Marks : 0.25**

In a library, Telugu, Hindi and English language books are there. The Telugu books are double in the number of Hindi books. The English books are four times, the number of Telugu books. Then how many non-Telugu books are there in the library, if Hindi books are 600?

ఒక లైబ్రరీలో తెలుగు, హిందీ, ఇంగ్లీషు భాషల పుస్తకాలు ఉన్నాయి. హిందీ పుస్తకాల సంఖ్య కంటే తెలుగు పుస్తకాలు రెట్టింపు. ఇంగ్లీషు పుస్తకాలు తెలుగు పుస్తకాల సంఖ్యకు నాలుగు రెట్లు ఎక్కువ. అలాంటప్పుడు హిందీ పుస్తకాలు 600 ఉంటే, లైబ్రరీలో తెలుగేతర పుస్తకాలు ఎన్ని ఉన్నాయి?

**Options :**

1. ✗ 2400

2. ✗ 1800

3. ✗ 6000

4. ✓ 5400

**Question Number : 69 Question Id : 7646925188 Question Type : MCQ Option Shuffling : Yes Is Question Mandatory : No Calculator : None Response Time : N.A Think Time : N.A Minimum Instruction Time : 0 Correct Marks : 1 Wrong Marks : 0.25**

In a library, Telugu, Hindi and English language books are there. The Telugu books are double in the number of Hindi books. The English books are four times, the number of Telugu books. Then how many non-Telugu books are there in the library, if Hindi books are 600?

ایک لائبریری میں تیلگو، ہندی اور انگریزی زبان کی کتابیں موجود ہیں۔ تیلگو کتابیں ہندی کتابوں کی تعداد میں دوگنی ہیں۔ انگریزی کتابوں کی تعداد تیلگو کتابوں سے چارگنا ہے۔ اگر ہندی کتابوں کی تعداد 600 ہے تو لائبریری میں کتنی غیر تیلگو کتابیں ہیں؟

Options :

1. ✘ 2400
2. ✘ 1800
3. ✘ 6000
4. ✔ 5400

Question Number : 70 Question Id : 7646925189 Question Type : MCQ Option Shuffling : Yes Is Question Mandatory : No Calculator : None Response Time : N.A Think Time : N.A Minimum Instruction Time : 0 Correct Marks : 1 Wrong Marks : 0.25

Find the missing Term in the given series

ఇచ్చిన సిరీస్ లో ఖాళీని సరిగ్గా పూరించే పదాన్ని కనుగొనండి

2, 12, 30, 56, 90, 132, .....

Options :

1. ✘ 192
2. ✘ 184
3. ✔ 182
4. ✘ 164

Question Number : 70 Question Id : 7646925189 Question Type : MCQ Option Shuffling : Yes Is Question Mandatory : No Calculator : None Response Time : N.A Think Time : N.A Minimum Instruction Time : 0 Correct Marks : 1 Wrong Marks : 0.25



Find the missing Term in the given series

نیچے دیے گئے سلسلے میں غائب عدد معلوم کریں

2, 12, 30, 56, 90, 132, .....

Options :

1. ✘ 192

2. ✘ 184

3. ✔ 182

4. ✘ 164

Question Number : 71 Question Id : 7646925190 Question Type : MCQ Option Shuffling : Yes Is Question Mandatory : No Calculator : None Response Time : N.A Think Time : N.A Minimum Instruction Time : 0 Correct Marks : 1 Wrong Marks : 0.25

In a code language if BREEZIER is written as FASXXLME then how DROPPING is written?

ఒక కోడ్ భాషలో BREEZIER అని FASXXLME అని వ్రాసినట్లయితే, DROPPING ఎలా వ్రాయబడుతుంది?

Options :

1. ✘ HACJNLYU

2. ✘ HACINLVU

3. ✘ HACJNLYT

4. ✔ HACINLVT

Question Number : 71 Question Id : 7646925190 Question Type : MCQ Option Shuffling : Yes Is Question Mandatory : No Calculator : None Response Time : N.A Think Time : N.A Minimum Instruction Time : 0 Correct Marks : 1 Wrong Marks : 0.25

In a code language if BREEZIER is written as FASXXLME then how DROPPING is written?

ایک کوڈ زبان میں اگر BREEZIER کو FASXXLME لکھا جاتا ہے تو DROPPING کو کیسے لکھا جائے گا؟

Options :

1. ✘ HACJNLYU
2. ✘ HACINLVU
3. ✘ HACJNLYT
4. ✔ HACINLVT

Question Number : 72 Question Id : 7646925191 Question Type : MCQ Option Shuffling : Yes Is Question Mandatory : No Calculator : None Response Time : N.A Think Time : N.A Minimum Instruction Time : 0 Correct Marks : 1 Wrong Marks : 0.25

A Woman points to a Man in a photograph and says that he is Father of Son of Maternal-uncle of my Daughter. How the man in photograph is related to the woman?

ఒక స్త్రీ ఒక ఫోటోలో ఒక వ్యక్తిని చూపిస్తూ, అతను నా కుమార్తె యొక్క మేనమామ యొక్క కొడుకు యొక్క తండ్రి అని చెప్పింది. ఫోటోలో ఉన్న పురుషుడు స్త్రీకి ఎలా బంధుత్వం కలిగి ఉంటాడు?

Options :

1. ✘ తండ్రి
2. ✘ Brother-in-law
3. ✘ తాత
4. ✔ సోదరుడు

Question Number : 72 Question Id : 7646925191 Question Type : MCQ Option Shuffling : Yes Is Question Mandatory : No Calculator : None Response Time : N.A Think Time : N.A Minimum Instruction Time : 0 Correct Marks : 1 Wrong Marks : 0.25

A Woman points to a Man in a photograph and says that He is Father of Son of Maternal-uncle of my Daughter. How the man in photograph is related to the woman?

ایک عورت ایک تصویر میں ایک مرد کی طرف اشارہ کرتی ہے اور کہتی ہے کہ یہ میری بیٹی کے ماموں کے بیٹے کا باپ ہے۔ تصویر میں موجود مرد کا عورت سے کیا رشتہ ہے؟

Options :

Father

1. ✘ باپ

Brother-in-law

2. ✘ بہنوئی

Grand father

3. ✘ دادا

Brother

4. ✔ بھائی

Sub-Section Number :

2

Sub-Section Id :

764692101

Question Shuffling Allowed :

No

Is Section Default? :

null

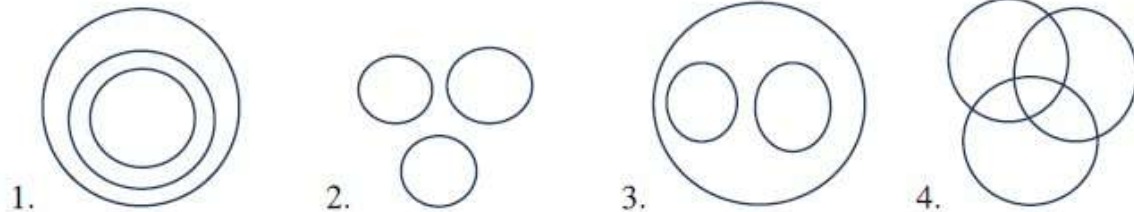
Question Id : 7646925192 Question Type : COMPREHENSION Sub Question Shuffling Allowed : Yes Group Comprehension Questions : No Question Pattern Type : NonMatrix Calculator : None Response Time : N.A Think Time : N.A Minimum Instruction Time : 0

Question Numbers : (73 to 75)

Question Label : Comprehension

Directions – Given below are four diagrams that are followed by questions with three words that are similar to one of the four diagrams. Identify the diagram to which the three words of the question relate to.

సూచనలు – కింద నాలుగు రేఖాచిత్రాలు ఇవ్వబడినవి. రేఖాచిత్రాల కింద ఇచ్చిన ప్రశ్నలలో ప్రతి ప్రశ్నలో మూడు పదాలు ఉన్నాయి. ఆ మూడు పదాలు మధ్య సంబంధం పైన ఇచ్చిన ఏ రేఖాచిత్రంతో సరిపోలి వున్నదో గుర్తించండి



### Sub questions

Question Number : 73 Question Id : 7646925193 Question Type : MCQ Option Shuffling : Yes Is Question Mandatory : No Calculator : None Response Time : N.A Think Time : N.A Minimum Instruction Time : 0 Correct Marks : 1 Wrong Marks : 0.25

Boys, Girls, dogs

మగపిల్లలు, ఆడపిల్లలు, కుక్కలు

Options :

1. ✘ 1
2. ✔ 2
3. ✘ 3
4. ✘ 4

Question Number : 74 Question Id : 7646925194 Question Type : MCQ Option Shuffling : Yes Is Question Mandatory : No Calculator : None Response Time : N.A Think Time : N.A Minimum Instruction Time : 0 Correct Marks : 1 Wrong Marks : 0.25

Actors, directors, producers

నటులు, దర్శకులు, నిర్మాతలు

Options :

1. ✘ 1
2. ✘ 2
3. ✘ 3
4. ✔ 4

Question Number : 75 Question Id : 7646925195 Question Type : MCQ Option Shuffling : Yes Is Question Mandatory : No Calculator : None Response Time : N.A Think Time : N.A Minimum Instruction Time : 0 Correct Marks : 1 Wrong Marks : 0.25

Sports, Cricket, Football

ఆటలు, క్రికెటు, ఫుట్బాల్

Options :

1. ✘ 1

2. ✘ 2

3. ✔ 3

4. ✘ 4

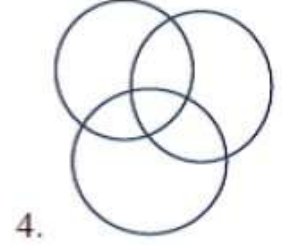
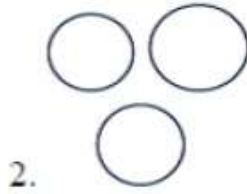
Question Id : 7646925192 Question Type : COMPREHENSION Sub Question Shuffling Allowed : Yes Group Comprehension Questions : No Question Pattern Type : NonMatrix Calculator : None Response Time : N.A Think Time : N.A Minimum Instruction Time : 0

Question Numbers : (73 to 75)

Question Label : Comprehension

73-75 Directions - Given below are four diagrams that are followed by questions with three words that are similar to one of the four diagrams. Identify the diagram to which the three words of the question relate to.

ہدایات ذیل میں چار خا کے دیے گئے ہیں جن کے بعد تین الفاظ کے ساتھ سوالات ہیں جو چار خا کوں میں سے کسی ایک سے تعلق ہے۔ اس خا کے کی نشان دہی کریں جس سے سوال کے تین الفاظ کا تعلق ہے



Sub questions

Question Number : 73 Question Id : 7646925193 Question Type : MCQ Option Shuffling : Yes Is Question Mandatory : No Calculator : None Response Time : N.A Think Time : N.A Minimum Instruction Time : 0 Correct Marks : 1 Wrong Marks : 0.25

Boys, Girls, dogs

لڑکے، لڑکیاں، کتے

Options :

1. ✘ 1

2. ✔ 2

3. ✘ 3

4. ✘ 4

Question Number : 74 Question Id : 7646925194 Question Type : MCQ Option Shuffling : Yes Is Question Mandatory : No Calculator : None Response Time : N.A Think Time : N.A Minimum Instruction Time : 0 Correct Marks : 1 Wrong Marks : 0.25

Actors, directors, producers

اداکار، ہدایت کار، پروڈیوسر

Options :



1. ✘ 1
2. ✘ 2
3. ✘ 3
4. ✔ 4

Question Number : 75 Question Id : 7646925195 Question Type : MCQ Option Shuffling : Yes Is Question Mandatory : No Calculator : None Response Time : N.A Think Time : N.A Minimum Instruction Time : 0 Correct Marks : 1 Wrong Marks : 0.25

Sports, Cricket, Football

کھیل، کرکٹ، فٹ بال

Options :

1. ✘ 1
2. ✘ 2
3. ✔ 3
4. ✘ 4

Sub-Section Number : 3  
Sub-Section Id : 764692102  
Question Shuffling Allowed : Yes  
Is Section Default? : null

Question Number : 76 Question Id : 7646925196 Question Type : MCQ Option Shuffling : Yes Is Question Mandatory : No Calculator : None Response Time : N.A Think Time : N.A Minimum Instruction Time : 0 Correct Marks : 1 Wrong Marks : 0.25

Which of the following can best be described as an example of moral standard?

కింది వాటిలో ఏది నైతిక ప్రమాణానికి మంచి ఉదాహరణగా వర్ణించవచ్చు?

Options :

1. ✘ Do not be late to class  
తరగతికి ఆలస్యంగా వెళ్ళవద్దు
2. ✘ Do not use office computer for personal use  
వ్యక్తిగత ఉపయోగం కోసం ఆఫీసు కంప్యూటర్‌ను ఉపయోగించవద్దు
3. ✔ Do not harm others  
ఇతరులకు హాని చేయవద్దు
4. ✘ Do not discuss pay issues with others  
వేతన సమస్యలను ఇతరులతో చర్చించవద్దు

Question Number : 76 Question Id : 7646925196 Question Type : MCQ Option Shuffling : Yes Is Question Mandatory : No Calculator : None Response Time : N.A Think Time : N.A Minimum Instruction Time : 0 Correct Marks : 1 Wrong Marks : 0.25

Which of the following can best be described as an example of moral standard?

مندرجہ ذیل میں سے کس کو اخلاقی معیار کی عمدہ مثال کے طور پر بیان کیا جاسکتا ہے؟

Options :

Do not be late to class

کلاس میں آنے میں تاخیر نہ کریں

1. ✘

Do not use office computer for personal use

ذاتی استعمال کے لیے آفس کے کمپیوٹر کا استعمال نہ کریں

2. ✘

Do not harm others

دوسروں کو نقصان نہ پہنچائیں

3. ✔

Do not discuss pay issues with others

دوسروں کے ساتھ تنخواہ کے امور پر تبادلہ خیال نہ کریں

4. ✘

Question Number : 77 Question Id : 7646925197 Question Type : MCQ Option Shuffling : Yes Is Question Mandatory : No Calculator : None Response Time : N.A Think Time : N.A Minimum Instruction Time : 0 Correct Marks : 1 Wrong Marks : 0.25

Which of the following must a teacher provide for socio- educational and civic betterment?

سామాజिक-विद्यापूरुवैसन मरियु पौर संबन्ध मेरुगुदल कोसं सुपाध्यायुदु किन्दि वारिर् वदि अन्दिन्चालि?

Options :

Financial contribution

आर्थिक सहकारण

1. ✘

Hard work

हार्ड वर्क

2. ✘

Sympathy

సానుభూతి

3. ✘

Leadership

నాయకత్వం

4. ✔

Question Number : 77 Question Id : 7646925197 Question Type : MCQ Option Shuffling : Yes Is Question Mandatory : No Calculator : None Response Time : N.A Think Time : N.A Minimum Instruction Time : 0 Correct Marks : 1 Wrong Marks : 0.25

Which of the following must a teacher provide for socio- educational and civic betterment

سماجی، تعلیمی اور شہری بہتری کے لیے ایک استاد کو مندرجہ ذیل میں سے کیا دینا چاہیے

Options :

Financial contribution

1. ✘ مالی تعاون

Hard work

2. ✘ سخت محنت

Sympathy

3. ✘ ہمدردی

Leadership

4. ✔ قیادت

Question Number : 78 Question Id : 7646925198 Question Type : MCQ Option Shuffling : Yes Is Question Mandatory : No Calculator : None Response Time : N.A Think Time : N.A Minimum Instruction Time : 0 Correct Marks : 1 Wrong Marks : 0.25

Which of the following statement is **INCORRECT**?

కింది వాటిలో సరికానిది ఏది?

Options :

Lecture Method has greater scope to develop reasoning  
ఉపన్యాస పద్ధతి రీజనింగ్‌ను అభివృద్ధి చేయడానికి ఎక్కువ పరిధిని కలిగి ఉంది

1. ✓

Lecture Method can develop knowledge

2. ✘ ఉపన్యాస పద్ధతి జ్ఞానాన్ని పెంపొందించగలదు

Lecture Method is one way process

3. ✘ ఉపన్యాస పద్ధతి అనేది వన్ వే ప్రాసెస్

During Lecture Method students are passive

4. ✘ ఉపన్యాస పద్ధతిలో సమయంలో విద్యార్థులు నిష్క్రియంగా ఉంటారు

Question Number : 78 Question Id : 7646925198 Question Type : MCQ Option Shuffling : Yes Is Question Mandatory : No Calculator : None Response Time : N.A Think Time : N.A Minimum Instruction Time : 0 Correct Marks : 1 Wrong Marks : 0.25

Which of the following statement is **INCORRECT**?

مندرجہ ذیل میں سے کون سا بیان درست نہیں ہے؟

Options :

Lecture Method has greater scope to develop reasoning

1. ✓ - لیکچر کے طریقہ کار میں استدلال کو فروغ دینے کی زیادہ گنجائش ہے۔

Lecture Method can develop knowledge

2. ✘ لیکچر کا طریقہ علم کو فروغ دے سکتا ہے

Lecture Method is one way process

3. ✘ لیکچر کا طریقہ ایک رٹی عمل ہے

During Lecture Method students are passive

4. ✘ لیکچر کے طریقہ کار کے دوران طالب علم غیر فعال ہوتے ہیں

Question Number : 79 Question Id : 7646925199 Question Type : MCQ Option Shuffling : Yes Is Question Mandatory : No Calculator : None Response Time : N.A Think Time : N.A Minimum Instruction Time : 0

Correct Marks : 1 Wrong Marks : 0.25

Homogenous groupings of children means, grouping of :

పిల్లల సజాతీయ సమూహాలు అంటే, సమూహం:

Options :

High and low ability children grouped together

అధిక మరియు తక్కువ సామర్థ్యం గల పిల్లలు కలిసి సమూహంగా ఉన్నారు

1. ✘

High ability children and low ability children in separate sections

ప్రత్యేక విభాగాలలో అధిక సామర్థ్యం గల పిల్లలు మరియు తక్కువ సామర్థ్యం గల పిల్లలు ఉన్నారు

2. ✔

Gifted and Slow learners in one group

ఒక సమూహంలో ప్రతిభావంతులైన మరియు నెమ్మదిగా నేర్చుకునేవారు ఉన్నారు

3. ✘

Gifted children are made to teach slow learners

ప్రతిభావంతులైన పిల్లలు నెమ్మదిగా నేర్చుకునే వారికి బోధిస్తారు

4. ✘

Question Number : 79 Question Id : 7646925199 Question Type : MCQ Option Shuffling : Yes Is Question Mandatory : No Calculator : None Response Time : N.A Think Time : N.A Minimum Instruction Time : 0

Correct Marks : 1 Wrong Marks : 0.25

Homogenous groupings of children means, grouping of :

: بچوں کی متجانس گروہ بندی (homogenous grouping) سے مراد ہے:

Options :

High and low ability children grouped together

اعلیٰ اور کم صلاحیت والے بچوں کا یکجا گروپ کرنا

1. ✘

High ability children and low ability children in separate sections

الگ الگ سیکشن میں اعلیٰ صلاحیت والے بچے اور کم صلاحیت والے بچے

2. ✔

Gifted and Slow learners in one group

ایک ہی گروپ میں باصلاحیت اور سست آموزگاروں کو گروپ کرنا

3. ✘



Gifted children are made to teach slow learners

4. ✘ سست آموزگاروں کو ذہین بچوں کے ذریعے پڑھانا

Question Number : 80 Question Id : 7646925200 Question Type : MCQ Option Shuffling : Yes Is Question Mandatory : No Calculator : None Response Time : N.A Think Time : N.A Minimum Instruction Time : 0 Correct Marks : 1 Wrong Marks : 0.25

Which of the following requires software to function?

کونسی چیز کے لیے سافٹ ویئر کی ضرورت ہے؟

Options :

Black board

1. ✘ بلیک بورڈ

Interactive board

2. ✔ انٹرایکٹیو بورڈ

Magnetic board

3. ✘ میگنیٹک بورڈ

Pin up board

4. ✘ پین اپ بورڈ

Question Number : 80 Question Id : 7646925200 Question Type : MCQ Option Shuffling : Yes Is Question Mandatory : No Calculator : None Response Time : N.A Think Time : N.A Minimum Instruction Time : 0 Correct Marks : 1 Wrong Marks : 0.25

Which of the following requires software to function?

مندرجہ ذیل میں سے کس پر کام کرنے کے لیے سافٹ ویئر کی ضرورت ہوتی ہے؟

Options :

Black board

1. ✘ بلیک بورڈ

Interactive board

2. ✔ انٹرایکٹیو بورڈ

Magnetic board

3. ✘ مقناطیسی بورڈ

Pin up board

4. ✘ پین اپ بورڈ

## General English

Section Id :	76469268
Section Number :	2
Section type :	Online
Mandatory or Optional :	Mandatory
Number of Questions :	20
Number of Questions to be attempted :	20
Section Marks :	20
Enable Mark as Answered Mark for Review and Clear Response :	Yes
Maximum Instruction Time :	0
Sub-Section Number :	1
Sub-Section Id :	764692103
Question Shuffling Allowed :	Yes
Is Section Default? :	null

Question Number : 81 Question Id : 7646925201 Question Type : MCQ Option Shuffling : Yes Is Question Mandatory : No Calculator : None Response Time : N.A Think Time : N.A Minimum Instruction Time : 0 Correct Marks : 1 Wrong Marks : 0.25

Identify the correct option when the given sentence is transformed into positive degree.

Lionel Messi is the greatest footballer in the world.

Options :

1. ✘ Few other footballers in the world are as great as Lionel Messi.

2. ✘ Some other footballers in the world are not as great as Lionel Messi.

3. ✔ No other footballer in the world is as great as Lionel Messi.

4. ✘ No other footballer in the world is not as great as Lionel Messi.

Question Number : 81 Question Id : 7646925201 Question Type : MCQ Option Shuffling : Yes Is Question Mandatory : No Calculator : None Response Time : N.A Think Time : N.A Minimum Instruction Time : 0 Correct Marks : 1 Wrong Marks : 0.25

Identify the correct option when the given sentence is transformed into positive degree.

Lionel Messi is the greatest footballer in the world.

Options :

1. ✘ Few other footballers in the world are as great as Lionel Messi.
2. ✘ Some other footballers in the world are not as great as Lionel Messi.
3. ✔ No other footballer in the world is as great as Lionel Messi.
4. ✘ No other footballer in the world is not as great as Lionel Messi.

Question Number : 82 Question Id : 7646925202 Question Type : MCQ Option Shuffling : Yes Is Question Mandatory : No Calculator : None Response Time : N.A Think Time : N.A Minimum Instruction Time : 0 Correct Marks : 1 Wrong Marks : 0.25

What is the meaning of the underlined idiom in the following sentence?

Getting it finished by tomorrow will take some doing.

Options :

1. ✔ be difficult
2. ✘ be easy
3. ✘ be nice
4. ✘ be confusing

Question Number : 82 Question Id : 7646925202 Question Type : MCQ Option Shuffling : Yes Is Question Mandatory : No Calculator : None Response Time : N.A Think Time : N.A Minimum Instruction Time : 0 Correct Marks : 1 Wrong Marks : 0.25

What is the meaning of the underlined idiom in the following sentence?

Getting it finished by tomorrow will take some doing.

Options :

1. ✓ be difficult

2. ✗ be easy

3. ✗ be nice

4. ✗ be confusing

**Question Number : 83 Question Id : 7646925203 Question Type : MCQ Option Shuffling : Yes Is Question Mandatory : No Calculator : None Response Time : N.A Think Time : N.A Minimum Instruction Time : 0 Correct Marks : 1 Wrong Marks : 0.25**

On the college annual day, a skit will be performed by Gnanika.

Choose the correct option when the sentence is changed into active voice.

**Options :**

1. ✓ On the college annual day, Gnanika will perform a skit.

2. ✗ On the college annual day, Gnanika will be performing a skit.

3. ✗ On the college annual day, Gnanika will be performed a skit.

4. ✗ On the college annual day, Gnanika will have performed a skit.

**Question Number : 83 Question Id : 7646925203 Question Type : MCQ Option Shuffling : Yes Is Question Mandatory : No Calculator : None Response Time : N.A Think Time : N.A Minimum Instruction Time : 0 Correct Marks : 1 Wrong Marks : 0.25**

On the college annual day, a skit will be performed by Gnanika.

Choose the correct option when the sentence is changed into active voice.

**Options :**

1. ✓ On the college annual day, Gnanika will perform a skit.

2. ✗ On the college annual day, Gnanika will be performing a skit.

3. ✗ On the college annual day, Gnanika will be performed a skit.

4. ✗ On the college annual day, Gnanika will have performed a skit.

**Question Number : 84 Question Id : 7646925204 Question Type : MCQ Option Shuffling : Yes Is Question Mandatory : No Calculator : None Response Time : N.A Think Time : N.A Minimum Instruction Time : 0 Correct Marks : 1 Wrong Marks : 0.25**

Identify the correct option regarding the following sentences.

A: There are many deer in the park.

B: There are many deers in the park.

**Options :**

1. ✓ Only Sentence A is correct.
2. ✗ Only Sentence B is correct.
3. ✗ Sentences A and B are correct.
4. ✗ Sentences A and B are wrong.

**Question Number : 84 Question Id : 7646925204 Question Type : MCQ Option Shuffling : Yes Is Question Mandatory : No Calculator : None Response Time : N.A Think Time : N.A Minimum Instruction Time : 0 Correct Marks : 1 Wrong Marks : 0.25**

Identify the correct option regarding the following sentences.

A: There are many deer in the park.

B: There are many deers in the park.

**Options :**

1. ✓ Only Sentence A is correct.
2. ✗ Only Sentence B is correct.
3. ✗ Sentences A and B are correct.
4. ✗ Sentences A and B are wrong.

**Question Number : 85 Question Id : 7646925205 Question Type : MCQ Option Shuffling : Yes Is Question Mandatory : No Calculator : None Response Time : N.A Think Time : N.A Minimum Instruction Time : 0 Correct Marks : 1 Wrong Marks : 0.25**



Identify the part of speech of the underlined word in the sentence given below.

The students have attended the classes regularly yet many of them have not cleared the test.

Options :

1. ✘ Interjection
2. ✔ Conjunction
3. ✘ Preposition
4. ✘ Adverb

Question Number : 85 Question Id : 7646925205 Question Type : MCQ Option Shuffling : Yes Is Question Mandatory : No Calculator : None Response Time : N.A Think Time : N.A Minimum Instruction Time : 0 Correct Marks : 1 Wrong Marks : 0.25

Identify the part of speech of the underlined word in the sentence given below.

The students have attended the classes regularly yet many of them have not cleared the test.

Options :

1. ✘ Interjection
2. ✔ Conjunction
3. ✘ Preposition
4. ✘ Adverb

Question Number : 86 Question Id : 7646925206 Question Type : MCQ Option Shuffling : Yes Is Question Mandatory : No Calculator : None Response Time : N.A Think Time : N.A Minimum Instruction Time : 0 Correct Marks : 1 Wrong Marks : 0.25

Choose the most suitable verb to complete the sentence.

Emperor Ashoka \_\_\_\_\_ many reforms in the country.

Options :

1. ✘ affected

2. ✓ effected

3. ✗ was affecting

4. ✗ effecting

**Question Number : 86 Question Id : 7646925206 Question Type : MCQ Option Shuffling : Yes Is Question Mandatory : No Calculator : None Response Time : N.A Think Time : N.A Minimum Instruction Time : 0 Correct Marks : 1 Wrong Marks : 0.25**

Choose the most suitable verb to complete the sentence.

Emperor Ashoka \_\_\_\_\_ many reforms in the country.

**Options :**

1. ✗ affected

2. ✓ effected

3. ✗ was affecting

4. ✗ effecting

**Question Number : 87 Question Id : 7646925207 Question Type : MCQ Option Shuffling : Yes Is Question Mandatory : No Calculator : None Response Time : N.A Think Time : N.A Minimum Instruction Time : 0 Correct Marks : 1 Wrong Marks : 0.25**

Choose the correct word from the given options to fill the blank.

Teacher: Give an example for an infectious disease.

Student: Measles \_\_\_\_\_ an infectious disease.

**Options :**

1. ✗ are

2. ✗ were

3. ✗ has

4. ✓ is

**Question Number : 87 Question Id : 7646925207 Question Type : MCQ Option Shuffling : Yes Is Question Mandatory : No Calculator : None Response Time : N.A Think Time : N.A Minimum Instruction Time : 0 Correct Marks : 1 Wrong Marks : 0.25**

Choose the correct word from the given options to fill the blank.

Teacher: Give an example for an infectious disease.

Student: Measles \_\_\_\_\_ an infectious disease.

Options :

1. ✘ are
2. ✘ were
3. ✘ has
4. ✔ is

Question Number : 88 Question Id : 7646925208 Question Type : MCQ Option Shuffling : Yes Is Question Mandatory : No Calculator : None Response Time : N.A Think Time : N.A Minimum Instruction Time : 0 Correct Marks : 1 Wrong Marks : 0.25

I'm not very good \_\_\_ preparing tea, though I prefer tea \_\_\_ coffee.

Choose the correct option to complete the sentence:

Options :

1. ✘ to, than
2. ✘ in, than
3. ✘ to, at
4. ✔ at, to

Question Number : 88 Question Id : 7646925208 Question Type : MCQ Option Shuffling : Yes Is Question Mandatory : No Calculator : None Response Time : N.A Think Time : N.A Minimum Instruction Time : 0 Correct Marks : 1 Wrong Marks : 0.25

I'm not very good \_\_\_ preparing tea, though I prefer tea \_\_\_ coffee.

Choose the correct option to complete the sentence:

Options :

1. ✘ to, than
2. ✘ in, than
3. ✘ to, at

4. ✓ at, to

Question Number : 89 Question Id : 7646925209 Question Type : MCQ Option Shuffling : Yes Is Question Mandatory : No Calculator : None Response Time : N.A Think Time : N.A Minimum Instruction Time : 0 Correct Marks : 1 Wrong Marks : 0.25

Choose the correct question tag to complete the sentences.

The girl has never fought with others, \_\_\_\_\_

Options :

1. ✓ has she?
2. ✗ hasn't she?
3. ✗ had she?
4. ✗ hadn't she?

Question Number : 89 Question Id : 7646925209 Question Type : MCQ Option Shuffling : Yes Is Question Mandatory : No Calculator : None Response Time : N.A Think Time : N.A Minimum Instruction Time : 0 Correct Marks : 1 Wrong Marks : 0.25

Choose the correct question tag to complete the sentences.

The girl has never fought with others, \_\_\_\_\_

Options :

1. ✓ has she?
2. ✗ hasn't she?
3. ✗ had she?
4. ✗ hadn't she?

Question Number : 90 Question Id : 7646925210 Question Type : MCQ Option Shuffling : Yes Is Question Mandatory : No Calculator : None Response Time : N.A Think Time : N.A Minimum Instruction Time : 0 Correct Marks : 1 Wrong Marks : 0.25

Identify the silent consonant letter in the word 'mortgage'.

Options :

1. ✗ r

2. ✓ *rt*

3. ✗ *rt & last g*

4. ✗ *m*

Question Number : 90 Question Id : 7646925210 Question Type : MCQ Option Shuffling : Yes Is Question Mandatory : No Calculator : None Response Time : N.A Think Time : N.A Minimum Instruction Time : 0 Correct Marks : 1 Wrong Marks : 0.25

Identify the silent consonant letter in the word 'mortgage'.

Options :

1. ✗ *r*

2. ✓ *rt*

3. ✗ *rt & last g*

4. ✗ *m*

Question Number : 91 Question Id : 7646925211 Question Type : MCQ Option Shuffling : Yes Is Question Mandatory : No Calculator : None Response Time : N.A Think Time : N.A Minimum Instruction Time : 0 Correct Marks : 1 Wrong Marks : 0.25

Choose the correct option to complete the sentence.

If you execute your plan properly, you \_\_\_\_\_

Options :

1. ✗ *would succeed*

2. ✗ *will have succeeded*

3. ✓ *will succeed*

4. ✗ *succeed*

Question Number : 91 Question Id : 7646925211 Question Type : MCQ Option Shuffling : Yes Is Question Mandatory : No Calculator : None Response Time : N.A Think Time : N.A Minimum Instruction Time : 0 Correct Marks : 1 Wrong Marks : 0.25

Choose the correct option to complete the sentence.

If you execute your plan properly, you \_\_\_\_\_



**Options :**

1. ✘ would succeed
2. ✘ will have succeeded
3. ✔ will succeed
4. ✘ succeed

**Question Number : 92 Question Id : 7646925212 Question Type : MCQ Option Shuffling : Yes Is Question Mandatory : No Calculator : None Response Time : N.A Think Time : N.A Minimum Instruction Time : 0 Correct Marks : 1 Wrong Marks : 0.25**

Choose the correct preposition to make the sentence grammatically appropriate.

The four thieves shared the booty \_\_\_\_\_ themselves.

**Options :**

1. ✘ for
2. ✔ among
3. ✘ upon
4. ✘ over

**Question Number : 92 Question Id : 7646925212 Question Type : MCQ Option Shuffling : Yes Is Question Mandatory : No Calculator : None Response Time : N.A Think Time : N.A Minimum Instruction Time : 0 Correct Marks : 1 Wrong Marks : 0.25**

Choose the correct preposition to make the sentence grammatically appropriate.

The four thieves shared the booty \_\_\_\_\_ themselves.

**Options :**

1. ✘ for
2. ✔ among
3. ✘ upon
4. ✘ over

**Question Number : 93 Question Id : 7646925213 Question Type : MCQ Option Shuffling : Yes Is Question Mandatory : No Calculator : None Response Time : N.A Think Time : N.A Minimum Instruction Time : 0**

Correct Marks : 1 Wrong Marks : 0.25

Pick the correct word to complete the given sentence.

Please, \_\_\_\_\_ cautiously when you walk in the park.

Options :

1. ✘ run
2. ✔ tread
3. ✘ lounge
4. ✘ loll

Question Number : 93 Question Id : 7646925213 Question Type : MCQ Option Shuffling : Yes Is Question Mandatory : No Calculator : None Response Time : N.A Think Time : N.A Minimum Instruction Time : 0 Correct Marks : 1 Wrong Marks : 0.25

Pick the correct word to complete the given sentence.

Please, \_\_\_\_\_ cautiously when you walk in the park.

Options :

1. ✘ run
2. ✔ tread
3. ✘ lounge
4. ✘ loll

Question Number : 94 Question Id : 7646925214 Question Type : MCQ Option Shuffling : Yes Is Question Mandatory : No Calculator : None Response Time : N.A Think Time : N.A Minimum Instruction Time : 0 Correct Marks : 1 Wrong Marks : 0.25

Choose the appropriate word to make the sentence grammatically correct.

One of the highlights of his batting \_\_\_\_\_ the timing with which he hits the cricket ball.

Options :

1. ✘ are
2. ✘ have been

3. ✘ was

4. ✔ is

**Question Number : 94 Question Id : 7646925214 Question Type : MCQ Option Shuffling : Yes Is Question Mandatory : No Calculator : None Response Time : N.A Think Time : N.A Minimum Instruction Time : 0 Correct Marks : 1 Wrong Marks : 0.25**

Choose the appropriate word to make the sentence grammatically correct.

One of the highlights of his batting \_\_\_\_\_ the timing with which he hits the cricket ball.

**Options :**

1. ✘ are

2. ✘ have been

3. ✘ was

4. ✔ is

**Question Number : 95 Question Id : 7646925215 Question Type : MCQ Option Shuffling : Yes Is Question Mandatory : No Calculator : None Response Time : N.A Think Time : N.A Minimum Instruction Time : 0 Correct Marks : 1 Wrong Marks : 0.25**

Choose the appropriate phrasal verb to complete the sentence.

The university has decided to \_\_\_\_\_ the date for announcing the results.

**Options :**

1. ✘ put out

2. ✘ put up

3. ✔ put off

4. ✘ put into

**Question Number : 95 Question Id : 7646925215 Question Type : MCQ Option Shuffling : Yes Is Question Mandatory : No Calculator : None Response Time : N.A Think Time : N.A Minimum Instruction Time : 0 Correct Marks : 1 Wrong Marks : 0.25**

Choose the appropriate phrasal verb to complete the sentence.

The university has decided to \_\_\_\_\_ the date for announcing the results.

**Options :**

1. ✘ put out
2. ✘ put up
3. ✔ put off
4. ✘ put into

**Question Number : 96 Question Id : 7646925216 Question Type : MCQ Option Shuffling : Yes Is Question Mandatory : No Calculator : None Response Time : N.A Think Time : N.A Minimum Instruction Time : 0 Correct Marks : 1 Wrong Marks : 0.25**

Which of the following sentence is grammatically correct.

**Options :**

1. ✘ The two brothers loved one another.
2. ✔ The two brothers loved each other.
3. ✘ The two brother loved each other.
4. ✘ The two brothers loves each other.

**Question Number : 96 Question Id : 7646925216 Question Type : MCQ Option Shuffling : Yes Is Question Mandatory : No Calculator : None Response Time : N.A Think Time : N.A Minimum Instruction Time : 0 Correct Marks : 1 Wrong Marks : 0.25**

Which of the following sentence is grammatically correct.

**Options :**

1. ✘ The two brothers loved one another.
2. ✔ The two brothers loved each other.
3. ✘ The two brother loved each other.
4. ✘ The two brothers loves each other.

Question Number : 97 Question Id : 7646925217 Question Type : MCQ Option Shuffling : Yes Is Question Mandatory : No Calculator : None Response Time : N.A Think Time : N.A Minimum Instruction Time : 0 Correct Marks : 1 Wrong Marks : 0.25

Identify the correct option to complete the sentence.

The guest has requested for AC Class 3 \_\_\_\_\_ berth.

Options :

1. ✘ tyre
2. ✔ tier
3. ✘ tire
4. ✘ tear

Question Number : 97 Question Id : 7646925217 Question Type : MCQ Option Shuffling : Yes Is Question Mandatory : No Calculator : None Response Time : N.A Think Time : N.A Minimum Instruction Time : 0 Correct Marks : 1 Wrong Marks : 0.25

Identify the correct option to complete the sentence.

The guest has requested for AC Class 3 \_\_\_\_\_ berth.

Options :

1. ✘ tyre
2. ✔ tier
3. ✘ tire
4. ✘ tear

Question Number : 98 Question Id : 7646925218 Question Type : MCQ Option Shuffling : Yes Is Question Mandatory : No Calculator : None Response Time : N.A Think Time : N.A Minimum Instruction Time : 0 Correct Marks : 1 Wrong Marks : 0.25

Which of the following is INCORRECT sentence?

Options :

1. ✘ He isn't nice to his friends.
2. ✘ They won't accept him.



3. ✓ He can't tolerate their negligence.

4. ✗ It mustn't be agreeable.

Question Number : 98 Question Id : 7646925218 Question Type : MCQ Option Shuffling : Yes Is Question Mandatory : No Calculator : None Response Time : N.A Think Time : N.A Minimum Instruction Time : 0 Correct Marks : 1 Wrong Marks : 0.25

Which of the following is INCORRECT sentence?

Options :

1. ✗ He isn't nice to his friends.

2. ✗ They won't accept him.

3. ✓ He can't tolerate their negligence.

4. ✗ It mustn't be agreeable.

Question Number : 99 Question Id : 7646925219 Question Type : MCQ Option Shuffling : Yes Is Question Mandatory : No Calculator : None Response Time : N.A Think Time : N.A Minimum Instruction Time : 0 Correct Marks : 1 Wrong Marks : 0.25

Identify the meaning of the underlined idiom.

The teachers have no axe to grind, except to see their students succeed.

Options :

1. ✗ no axe to cut

2. ✗ no interest

3. ✗ no worries

4. ✓ no selfish motive

Question Number : 99 Question Id : 7646925219 Question Type : MCQ Option Shuffling : Yes Is Question Mandatory : No Calculator : None Response Time : N.A Think Time : N.A Minimum Instruction Time : 0 Correct Marks : 1 Wrong Marks : 0.25

Identify the meaning of the underlined idiom.

The teachers have no axe to grind, except to see their students succeed.

**Options :**

1. ✘ no axe to cut
2. ✘ no interest
3. ✘ no worries
4. ✔ no selfish motive

**Question Number : 100 Question Id : 7646925220 Question Type : MCQ Option Shuffling : Yes Is Question Mandatory : No Calculator : None Response Time : N.A Think Time : N.A Minimum Instruction Time : 0 Correct Marks : 1 Wrong Marks : 0.25**

Choose the correct option in view of the degrees of comparison of the adjectives in the following sentences.

A: Walking is better than running.

B: Running is not as good as walking.

**Options :**

1. ✘ Only the Sentence A is correct
2. ✘ Only the Sentence B is correct
3. ✔ The Sentence A and B are correct
4. ✘ The Sentence A and B are not correct

**Question Number : 100 Question Id : 7646925220 Question Type : MCQ Option Shuffling : Yes Is Question Mandatory : No Calculator : None Response Time : N.A Think Time : N.A Minimum Instruction Time : 0 Correct Marks : 1 Wrong Marks : 0.25**

Choose the correct option in view of the degrees of comparison of the adjectives in the following sentences.

A: Walking is better than running.

B: Running is not as good as walking.

**Options :**

1. ✘ Only the Sentence A is correct
2. ✘ Only the Sentence B is correct

3. ✓ The Sentence A and B are correct

4. ✘ The Sentence A and B are not correct